

AC 11/36

VOJNI SIMBOLI
I
TEHNIKE GRAFIKA

(prijevod)

US ARMY SERGEANTS MAJOR ACADEMY
FORT BLISS, TEXAS

NASLOV: GRAFIČKI PREDSTAVLJEN TEKST

CILJ: Osigurati polazniku radno znanje temelja izgradnje te temelja predstavljanja vojnih simbola kojim se koriste u pripremama situacijskih zemljovida, planskih zemljovida te operativnih zemljovida i grafika.

LITERATURA: FM 21- 30, Vojni simboli, i USAIS Operativni priručnik

POTREBITI MATERIJAL: Nema

NUŽNI MATERIJALI: Nema

I. UVOD : Ovaj tekst je programiran kao pomagalo prije nastave ili rada koje pokriva temelje izgradnje te tehnike predstavljanja vojnih simbola koji se koriste na situacijskim zemljovidima, operativnim zemljovidima te grafikama. Namjera nije bila da se svi vojni simboli predstave u ovom priručniku. Međutim, simboli koje ćete učiti, naučit će vas tehnikama i jedinstvenim postupcima grafičkog predstavljanja različitih postrojbi, djelovanja te mjerama nadzora. Jednom kada se upoznate sa tehnikama i osnovnom konstrukcijom vojnih simbola, moći ćete razviti bilo koji simbol koji poželite slijedeći čiste logičke i sažete dijelove.

II. CILJEVI : Po završetku rada na priručniku moći ćete:

- a. Grafički predstaviti postrojbu, objekte, i djelovanja, UPOTREBLJAVAJUĆI postupke izrade vojnih simbola prateći smjernice dane u ovom priručniku.
- b. Pripremiti operativnu presliku, predstavljajući taktičke informacije, koristeći se tehnikama danim u ovom priručniku.

III. GLAVNE INSTRUKCIJE :

Informacije su u ovom priručniku sistematski postavljene u male jednostavne korake učenja. Stranice će u priručniku predstavljati informacije. One će biti praćene zahtjevom za crtanjem simbola, ispisivanjem riječi ili rečenice, ili prepoznavanjem simbola. Stranicu sa zahtjevom pratit će stranica sa rješenjem. Završite zahtjev.

NAPOMENA: OVAJ PRIRUČNIK MOŽETE ZAVRŠITI U VREMENU KOJE SAMI ODREDITE. PROSJEČNO VRIJEME POTREBNO ZA ISPUNJENJE CIJELOG PRIRUČNIKA IZNOSI OD 3 DO 4 SATA.

ZAPOČNITE S POSLOM

1. Pravokutnik se rabi kao predstavnik postrojbi, zapovjednih mjesta te borbeno servisne potpore (BSP) elementa borbene postrojbe (brigade i niže).


Primjer:



(Postrojba)

2 . Za zapovjedno mjesto, istaknuta je crta iz donjeg lijevog kuta pravokutnika, na desnom kutu do podloge.


Primjer:



(Zapovjedno mjesto)

3 . Da bi ste predstavili elemente borbenoservisne potpore borbene postrojbe (brigade i niže) crtaju se maleni kružići na donjem lijevom i desnom kutu pravokutnika.

Primjer:



(Element borbenoservisne potpore borbene postrojbe (brigade ili niže))


4 . Pravokutnik se rabi za predstavljanje _____, _____, i
elemenata borbenoservisne _____ postrojbe, (brigade ili
niže).

Odgovor na 4.pitanje.

Pravokutnik se rabi za predstavljanje postrojba , zapovjednih mjesta i elemenata borbenoservisne potpore borbene postrojbe (brigade ili niže)

5 . Kružnica služi za predstavljanje objekata borbeno servisne potpore ili njenog djelovanja.

Primjer:






(objekti ili djelovanje borbenoservisne potpore)

6 . Motrionica ili prislušna postaja predstavlja se trokutom.

Primjer:



(motrionica ili prislušna postaja)

7 . Dosada si naučio geometrijske likove u obliku ,  , i  koji se rabe za predstavljanje postrojbi, zapovjednih mjesta, elemenata borbenoservisne potpore borbene postrojbe, motrionica ili prislušnih postaja te instalacije ili djelovanja borbenoservisne potpore.

8 . Nacrtajte simbole koji su opisani dolje (brigada i niže).


- a. Element borbenoservisne potpore borbene postrojbe.
- b. Postrojbu.
- c. Motronicu ili prislušnu postaju
- d. Objekte ili djelovanja borbenoservisne potpore.
- e. Zapovjedno mjesto.

(NASTAVITE NA SLJEDEĆOJ STRANICI)

Odgovor na 8. pitanje

Simboli koje trebate nacrtati predstavljeni su ili pravokutnikom, trokutom ili kružnicom (brigada ili niže).

a. Element borbenoservisne potpore borbene postrojbe.



b. Postrojba



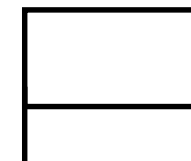
c. Motrionica ili prislušna postaja.



d. Instalacije ili djelovanja borbenoservisne potpore.



e. Zapovjedno mjesto.



9 . Sada kada poznajete osnovne simbole za postrojbe, zapovjedna mjesta, elemente borbenoservisne potpore borbene postrojbe, instalacije ili djelovanja borbenoservisne potpore te motrionice ili prislušne postaje spremni ste za sljedeći korak, prikazivanje veličine postrojbe.

Simboli korišteni za predstavljanje veličine POSTROJBE NIŽE RAZINE SATNIJE prikazani su dolje.

SIMBOL

●

● ●

● ● ●

VELIČINA POSTROJBE

Desetina

Skupina

Vod ili pridodane postrojbe

10. Točkice služe za predstavljanje veličine postrojbi ispod razine satnije.

● Predstavlja _____

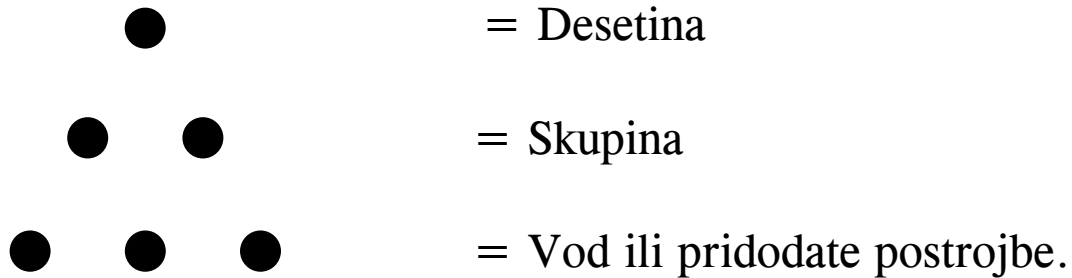
● ● Predstavlja _____

● ● ● Predstavlja _____ ili _____

(NASTAVITE NA SLJEDEĆOJ STRANICI)

Odgovor na pitanje 10

Točkice su upotrijebljene za predstavljanje veličine postrojbe ispod razine satnije.



11. Simboli korišteni za predstavljanje veličine POSTROJBI OD SATNIJE DO PUKOVNIJE.

SIMBOL

I

II

III

RAZINA POSTROJBE

Satnija ili bitnica

Bojna ili eskadrila

Pukovnija.

12. Okomite linije su korištene za predstavljanje veličine postrojbi od razine satnije do pukovnije.

a. **|** = _____ ili _____.

b. **||** = _____ ili _____.

c. **|||** = _____.

(NASTAVITE NA SLJEDEĆOJ STRANICI)

Odgovor na 12. pitanje

Okomite linije rabe se za predstavljanje veličine postrojbe razine satnije do pukovnije.

a.  = Satnija ili bitnica.

b.  = Bojna ili eskadrila.

c.  = Pukovnja.

13. Što dolje prikazani simboli predstavljaju.

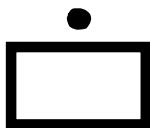
 = _____

 = _____


 = _____

(NASTAVITE NA SLJEDEĆOJ STRANICI)

Odgovor na 13. pitanje.



= Desetina



= Skupina



= Vod ili pridodane postrojbe.

14. X se rabi za predstavljanje veličine postrojbi razine BRIGADE ILI VIŠE.

<u>SIMBOL</u>	<u>RAZINA POSTROJBE</u>
X	Brigada
X X	Divizija
X X X	Korpus
X X X X	Armija
X X X X X	Grupa armija

15. Popunite ispražnjena mjesta.

X = _____

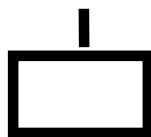
X X = _____

.
X X X = _____


X X X X = _____

X X X X X = _____


.



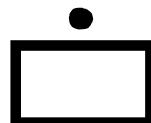
= _____ , _____




= _____




= _____



= _____



= _____



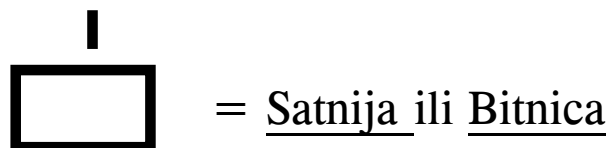
= _____ , _____

(NASTAVITE NA SLJEDEĆOJ STRANICI)

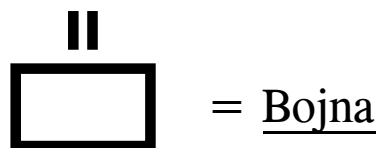
Odgovor na 15. pitanje.

X-ovi služe za predstavljanje razine postrojbi brigade ili više.

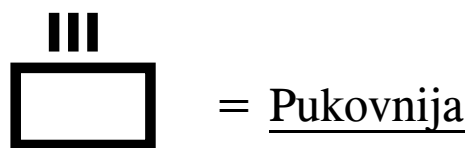
X = Brigada .



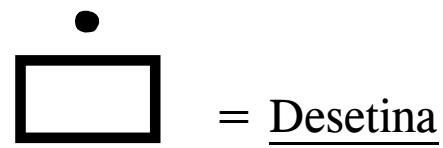
X X = Divizija .



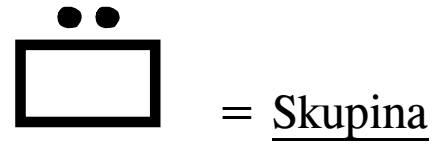
X X X = Korpus.



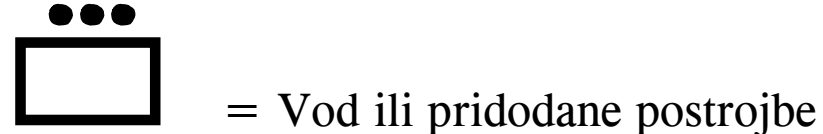
X X X X = Armija



X X X X X = Grupa armija



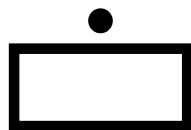
.



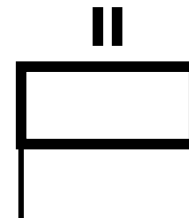
16. Pokušajmo sada kombinirati simbol RAZINE sa simbolom POSTROJBE i ZAPOVJEDNIM MJESTOM.

Da bi ste predočili veličinu postrojbi i zapovjednih mjesta, simbol veličine je postavljen u SREDIŠTU IZNAD postrojbe.

Primjer:



(Desetina)



(Zapovjedno mjesto bojne)

17. Prikažite simbole navedene dolje.

OPIS

SIMBOL

- a. Brigadno zapovjedno mjesto.
- b. Vod (postrojba).

(NASTAVITE NA SLJEDEĆOJ STRANICI)

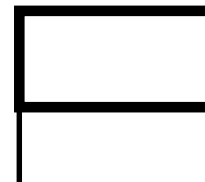
Odgovor na 17. pitanje

OPIS

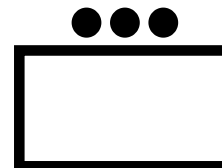
a. Brigadno zapovjedno mjesto

SIMBOL


X




b. Vod (postrojba)

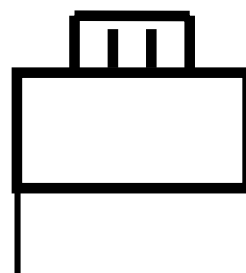
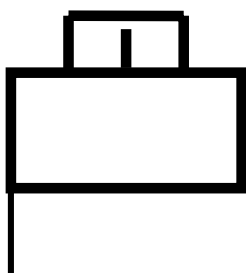
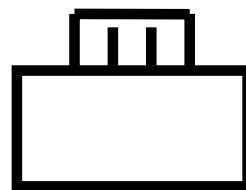


Vi u ovo vrijeme nećete učiti metodu prikazivanja veličine čimbenika borbenoservisne potpore (BSP), njenih instalacija ili djelovanja. Vi ćete tu metodu učiti kada se bolje upoznate sa tehnikama prikazivanja oznaka i simbola postrojbi.

18. Simbol  postavljen preko simbola veličine postrojbe predstavlja PRIVREMENO GRUPIRANJE postrojbi, obično za specifične taktičke operacije u kojima su označene funkcije postrojbe kao elementi zapovijedanja i nadzora.

Simbol  jedino je postavljen preko simbola veličine postrojbe i simbola zapovjednog mjesta, ne upotrebljava se sa; instalacijama BSP ili djelovanjima te simbolima motrionica.

Primjer:



19. Kompletirajte simbole dolje navedene, označavanjem točne grupe postrojbi.



Satnija*NOS-a



Bojna NOS-a



(ZM satnije NOS-a)



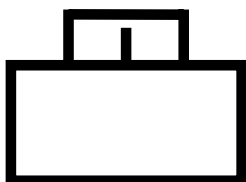
(ZM bojne NOS-a)

* NOS (Task force) – Namjenske oružane snage (pridodane postrojbe npr. inženjerija, oklop, NKBO, i dr.)

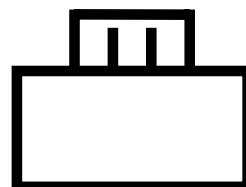
(NASTAVITE NA SLJEDEĆOJ STRANICI)

Odgovor na 19. pitanje

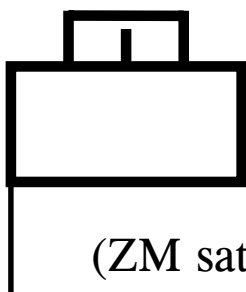
U kompletiranju navedenih simbola, trebate dodati simbol veličine te simbol koji predstavlja tim satnije ili bojnu združenih snaga.



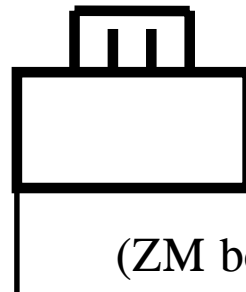
Satnija NOS-a



Bojna NOS-a




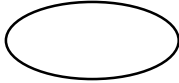

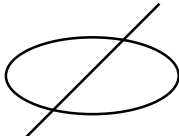
(ZM satnije NOS-a)



(ZM bojne NOS-a)

20. Kada izrađujemo osnovne vojne simbole, koristimo se tradicionalnim oružjem ili rodom.

Evo nekih od simbola.

ROD	SIMBOL	OBJAŠNENJE
Pješaštvo		Prekrižene naramenice
Oklop		Tenkovske gusjenice
Izvidnici		Konjički redenik
Izvidnici oklopa		Konjički redenik i tenkove gusjenice




21. RODOVSKI SIMBOLI se postavljaju zajedno unutar simbola postrojbe, instalacije ili motrionice ili prislusne postaje.

Primjer:



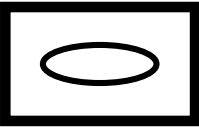
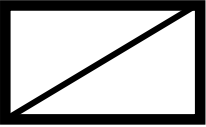
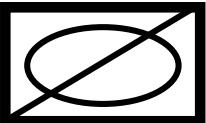
(postrojba pješastva)

22. Upotpunite simbole prikazane dolje ucrtavajući ispravan simbol roda.




ROD	SIMBOL	OBJAŠNJENJE
Oklop		Tenkovske gusjenice
Izvidnici		Konjički redenik
Izvidnici oklopa		Konjički redenik i tenkovske gusjenice

(NASTAVITE NA SLJEDEĆOJ STRANICI)


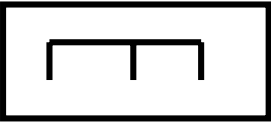

Odgovor na 22. pitanje

ROD	SIMBOL	OBJAŠNJENJE
Oklop		Tenkovske gusjenice
Izvidnici		Konjički redenik
Izvidnici oklopa		Konjički redenik i tenkovske gusjenice

23. Nastavimo sa ostalim simbolima rodova.




ROD	SIMBOL	OBJAŠNENJE
Topništvo		Topovska kugla
Inženjerija		Most
Veza		Munja

24. Upišite rod postrojbe na dolje navedena prazna mjesta.


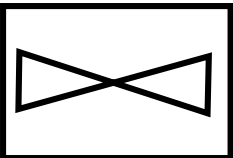
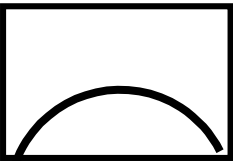
ROD	SIMBOL	OBJAŠNENJE
<hr/>		Topovska kugla
<hr/>		Most
<hr/>		Munja

(NASTAVITE NA SLJEDEĆOJ STRANICI)

24. Iako su vam neki simboli rodova, ovdje prikazani vama potpuno novi, vi vjerojatno nemate problema s prepoznavanjem rodova. Kada shvatite postupak izrade simbola rodova, u većini slučajeva simboli objašnjavaju sami svoj simbol, rod.



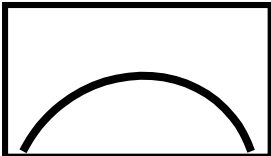
ROD	SIMBOL	OBJAŠNJENJE
Zdravstvo		Ženevski križ
Ratno zrakoplovstvo		Propeler
Protuzračna obrana		Kupola radara

25. Kao što ste vidjeli, izrada simbola roda je jednostavna i jednostavna za shvaćanje. Pokušajte vidjeti možete li prepoznati rodove postrojbi prikazanih dolje.

ROD	SIMBOL	OBJAŠNENJE
_____		Ženevski križ
_____		Propeler
_____		Kupola radara

(NASTAVITE NA SLJEDEĆOJ STRANICI)

Odgovor na 26. pitanje.

<u>ROD</u>	<u>SIMBOL</u>	<u>OBJAŠNENJE</u>
<u>Zdravstvo</u>		Ženevski križ
<u>Ratno zrakoplovstvo</u>		Propeler
<u>Protuzračna obrana</u>		Kupola radara

27. Postoje određeni rodovi za koje nema propisanog. U ovom slučaju, određene skraćenice predstavljaju rod ili službu.

Primjer:



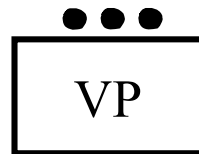
(Postrojba vojne policije)

28. Ne postoji simbol koji predstavlja vojnu policiju, zbog toga se upotrebljava skraćenica _____ koja predstavlja postrojbu vojne policije .

Nacrtajte simbol za vod vojne policije.

Odgovor na 28. pitanje

Ne postoji simbol koji predstavlja vojnu policiju, zbog toga se upotrebljava skraćenica VP koja predstavlja postrojbu vojne policije.



29. Dolje su navedene grane službi za koje ne postoje simboli. Upotpunite simbole postrojbi upotpunivši granu službe prikazanu dolje.

ROD

SIMBOL

Army security agency


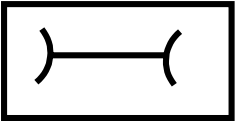


Military intelligence

Odgovor na 29. pitanje



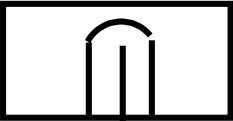

Zbog toga što ne postoji simbol roda navedenih postrojbi, grana službe predstavljena je određenim skraćenicama.

ROD	SIMBOL
Army security agency	ASA
Military intelligence	MI

30. Ponekad, simbol postrojbe je shvatljiviji ukoliko je predstavljen u obliku zadaća postrojbe. Neki oblici zadaća prikazani su dolje.

ZADAĆA POSTROJBE	SIMBOL	OBJAŠNENJE
Padobranstvo		Ptica u letu
Održavanje		Dva zakrenuta kraja
Rakete i navodeći projektili		Projektil
Logistika		Znak je pri dnu podijeljen linijom


31. Ispišite dužnosti koje provode postrojbe opisane dolje

ZADAĆA POSTROJBE	SIMBOL	OBJAŠNENJE
<hr/>		Ptica u letu
<hr/>		Dva zakrenuta kraja
<hr/> <hr/>		Projektil
<hr/>		Znak je pri dnu podijeljen linijom

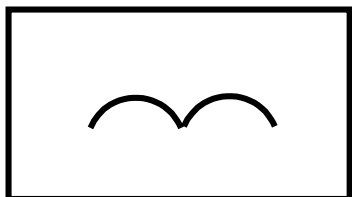
(NASTAVITE NA SLJEDEĆOJ STRANICI)

32. Postrojbe su prikazane tradicionalnim oružjem ili simbolom roda, skraćenicom te simbolom vrste zadaće.


Transportna služba (rod)



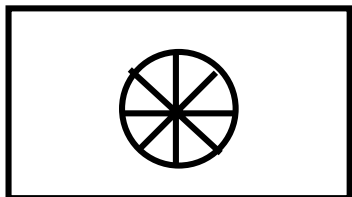
Padobranstvo (zadaća postrojbe)



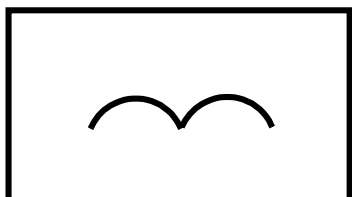
Specijalne postrojbe (zadaća postrojbe)



33. Ispišite rod ili zadaću postrojbe predstavljene simbolom.



Kotač



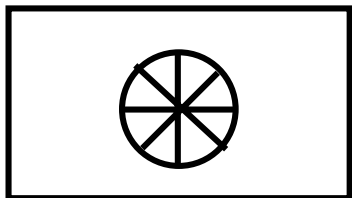
Krila



Skraćenica

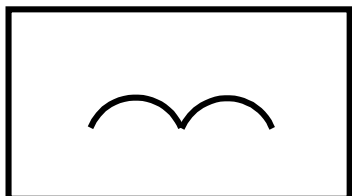
(NASTAVITE NA SLJEDEĆOJ STRANICI)

Odgovor na 33.pitanje



Transportna služba (rod)

Kotač



Padobranstvo (zadaca postrojbe)



Krila



Specijalne postrojbe (zadaca postrojbe)

Skraćenica

34. Ovdje su dva oblika zadaća postrojbe koje možda nikada prije niste vidjeli.

ZADAĆA POSTROJBE	SIMBOL	OBJAŠNENJE
Zračna navala		“V” predstavlja postrojbu koja je organizacijski zračnopokretna i uvježbana u operacijama zračne navale.
Zračna navala		“V” sa crticom dolje predstavlja postrojbe zračne navale koja ima dovoljan broj vlastitih zrakoplova da samostalno može izvoditi zadaće zračne navale.

35. Upotpunite opise dužnosti navedenih postrojbi prikazanih dolje.

ZADAĆA POSTROJBE	SIMBOL	OBJAŠNENJE
------------------	--------	------------

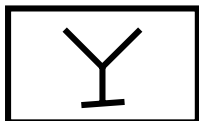
Zračna navala

“V” predstavlja postrojbu koja je _____ zračno pokretna i _____ u operacijama zračne navale.


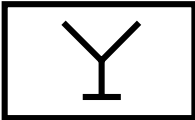


Zračna navala

“V” sa crticom dolje predstavlja postrojbe _____ koja ima _____ vlastitih _____ da samostalno može izvoditi zadaće zračne navale.

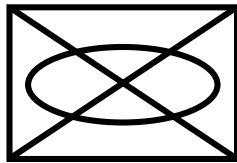


Odgovor na 35. pitanje

ZADAĆA POSTROJBE	SIMBOL	OBJAŠNENJE
Zračna navala		“V” predstavlja postrojbu koja je <u>organizacijski</u> zračno pokretna i <u>uvježbana</u> u operacijama zračne navale.
Zračna navala		“V” sa crticom dolje predstavlja postrojbe <u>zračne navale</u> koja ima <u>dovoljan broj vlastitih zrakoplova</u> da samostalno može izvoditi zadaće zračne navale

36. Postoje neke postrojbe koje su posebno opremljene i uvježbane za ispunjenje specifičnih zadataka. Da bi ste grafički predstavili takve postrojbe, ponekad je potrebno kombinirati rod i simbol zadatke postrojbe.

Primjer:



(Postrojba mehaniziranog pješništva)

Simbol roda za pješništvo i oklopa je kombiniran i predstavlja postrojbu mehaniziranog pješništva.

37. Koristeći simbole roda sa simbolima zadaće postrojbe koje ste naučili u ovom tekstu, pokušajte kombinirati pravilnu kombinaciju simbola da odredite simbole postrojbi navedenih dolje.

ZADAĆA POSTROJBE	SIMBOL	OBJAŠNJENJE
------------------	--------	-------------

Bojna zračnodesantnog pješništva

Vod izvidnika oklopa

Bitnica topništva pridodana
diviziji mehaniziranog pješništva


(NASTAVITE NA SLJEDEĆOJ STRANICI)

Odgovor na 37. pitanje

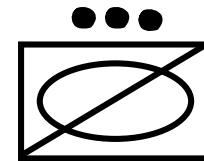
ZADAĆA POSTROJBE

SIMBOL

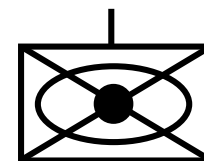
Bojna zračnodesantnog pješništva



Vod izvidnika oklopa



Bitnica topništva pridodana
diviziji mehaniziranog pješništva



38. Simbol roda i vrste dužnosti postrojbe također su upotrijebljeni u izradi instalacija borbeno servisne potpore ili simbola djelovanja.

Odabir pravilnog simbola roda ili vrste dužnosti postavljen je unutar kruga. Obično je vrsta dužnosti više značajnija nego oznaka roda kada predstavljamo instalacije ili djelovanja borbeno servisne potpore.



Primjeri:

(medicinska instalacija ili djelovanje)

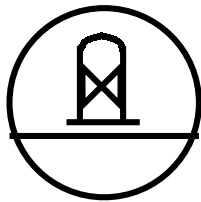


(Logističko djelovanje (streljivo))

Simbol za medicinske instalacije ili djelovanja predstavlja postaje prve pomoći i bolnice. Okomite oznake unutar simbola postavljene na Ženevski križ predstavljaju simbol sa koordinacijske točke koju ćete vidjeti kasnije u tekstu. Logističko djelovanje predstavlja streljivo, vrsta nije specificirana. Donja linija predstavlja logističke instalacije ili djelovanja.

39. Ostale simbole rodova i dužnosti postrojbi korišteni su u kombinaciji sa osnovnim simbolom streljiva da predstave specifičnu vrstu streljiva.




Primjer:



(Streljivo- pješačko osobno naoružanje)

Simbolu roda pješastva pridodan je osnovni simbol streljiva koji predstavlja specifičnu vrstu streljiva, pješačkog osobnog naoružanja.

40. Koristeći simbol roda ili oblika dužnosti koji su bili prikazani u ovom tekstu, upotpunite simbole logističkih instalacija upotpunjavanjem grafičkim prikazom prema opisanoj vrsti streljiva

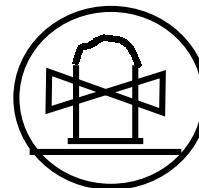
OBJAŠNJENJE	SIMBOL
Streljivo - <u>Ratno zrakoplovstvo</u>	
Streljivo - <u>Topništvo</u>	
Streljivo - <u>Rakete i navodeći projektili</u>	

Odgovor na 40. pitanje

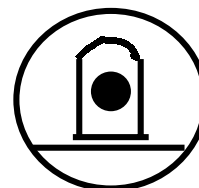
OBJAŠNENJE

SIMBOL


Streljivo - Ratno zrakoplovstvo



Streljivo - Topništvo



Streljivo - Rakete i navodeći projektili



41. Završni korak u predstavljanju simbola postrojbe, instalacije ili djelovanja je u određivanju određenja postrojbe.

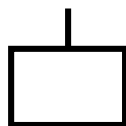
Da bi ste predstavili specifičnu postrojbu ODREĐENE veličine, određenje postrojbe je postavljeno na lijevoj strani simbola. Postrojbeno određenje na lijevoj strani simbola mora odgovarati oznaci veličine postrojbe na vrhu simbola postrojbe.

Primjer: Prikazivanje postrojbe veličine satnije:

Bitnica /
Satnija/

Bojna /
Eskadrila /

Pukovnija / Brigada / Viši ešaloni
zapovjedništva



Viši ešaloni zapovjedništva postavljeni su na desnoj strani osnovnog simbola u redosljedu od lijeva na desno i razdvojeni kosom crtom.

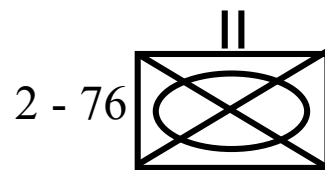
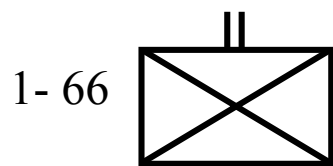
42. Da bi ste predstavili specifičnu postrojbu, određenje postrojbe je postavljeno na _____ simbola postrojbe. Viši ešaloni zapovjedništva postavljeni su na _____ osnovnog simbola u hijerarhijskom redosljedju s lijeva na desno te razdvojeni _____.

(NASTAVITE NA SLJEDEĆOJ STRANICI)

Odgovor na 42. pitanje

Da bi ste predstavili specifičnu postrojbu, određenje postrojbe je postavljeno na lijevoj strani simbola postrojbe. Viši ešaloni zapovjedništva postavljeni su na desnoj strani osnovnog simbola u hijerarhijskom redosljedju s lijeva na desno te razdvojeni kosom crtom.

43. Ponekad su bojne predstavljene kombinacijom brojeva. Takva metoda postavljanja primjenjuje se kod određenih borbenih postrojbi te se naziva sustav borbenih snaga pukovnije SBSP/(Combat Arms Regimental System (CARS)). Unutar SBSP, bojne pješništva, tenkova i topništva te eskadrile izvidnika oklopništva određene su s oba broja, brojem bojne ili eskardila te tradicionalnim brojem pukovnije. Da bi ste predstavili da kombinacija brojeva ne predstavlja odvojene ešalone zapovjedništva već se odnose na jednu postrojbu, one su odvojene crticom umjesto kose crte.



Primjeri :

(1. bojna, 66. pješničke pukovnije)

(2. bojna (mehanizirana), 76. pješničke pukovnije)

44. Postrojbe koje se nalaze pod sustavom SBSP (CARS) predstavljene su kombinacijom brojeva odvojenih pomoću _____ koji predstavlja samostalnu postrojbu, _____ ešalon zapovijedanja.

(NASTAVITE NA SLJEDEĆOJ STRANICI)

Odgovor na 44. pitanje

Postrojbe koje se nalaze pod sustavom SBSP (CARS) predstavljene su kombinacijom brojeva odvojenih pomoću kose crte koja predstavlja samostalnu postrojbu, jedan ešalon zapovijedanja.

45. Prikažite postrojbe opisane dolje.

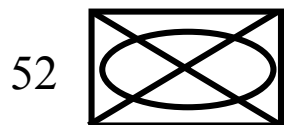
(52. Mehanizirana pješačka divizija)

(1. Mehanizirana pješačka brigada)

(2. Bojna (mehanizirana), 76. pješačke pukovnije, 1. brigade, 52. divizije)

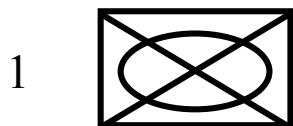
Odgovor na 45. pitanje

XX

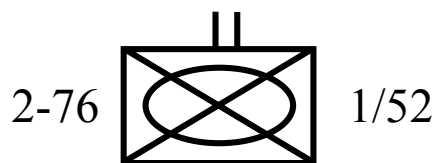


(52. mehanizirana pješačka divizija)

X



(1. mehanizirana pješačka brigada)



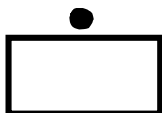
(2. bojna (mehanizirana), 76. pješačka pukovnija, 1. brigada, 52. divizija)

Ukoliko ste u dvojbi kojom se veličinom simbola koristiti kada je određeno više od jednog ešalona, simbol veličine mora odgovarati određenju postrojbe prikazanoj na lijevoj strani simbola postrojbe.

46. Postupak za prikazivanje specifične postrojbe je primjenjiv za postrojbe SVIH veličina.

Primjer: Prikazivanje postrojbe veličine desetine.

Desetina Skupina / Vod ili pridodavanja / Satnija, Bitnica / Viši ešaloni
zapovjedništva



Postupak za prikazivanje više od jednog ešalona zapovjedništva je također primjenjiv za postrojbe svih veličina.

47. Sada kada ste naučili kako predstaviti simbole postrojbi, kompletirajte simbole postrojbi prikazane dolje.


(A satnija, 2. bojna (mehanizirana), 76. pješačka pukovnija)

(1. vod, A satnija, 2. bojna (mehanizirana), 76. pješačka pukovnija)

(1. desetina, 1. vod, A satnija, 2. bojna (mehanizirana), 76. pješačka pukovnija, 1. brigada, 52. divizija)

(NASTAVITE NA SLJEDEĆOJ STRANICI)


Odgovor na 47. pitanje

A  2 -76

(A satnija, 2. bojna (mehanizirana), 76. pješačka pukovnija)

1  A / 2-76

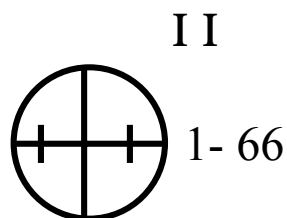
(1. vod, A satnija, 2. bojna (mehanizirana), 76. pješačka pukovnija)

1  1 / A / 2-76 / 1 / 52


(1. desetina, 1 vod, A satnija, 2. bojna (mehanizirana), 76. pješačka pukovnija, 1. brigada, 52. divizija)

48. Kada prikazujemo simbol veličine postrojbe za element BSP, motrionicu, instalacije ili djelovanja BSP, simbol veličine postrojbe mora biti od postrojbe kojoj pripada instalacija ili baza. Simbol veličine prikazan je iznad identifikacije za bazu, instalaciju ili motrionicu.

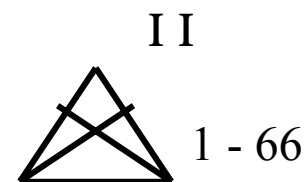
Primjer:



(Postaja PP, 1. bojna,
66. pješačka pukovnija)



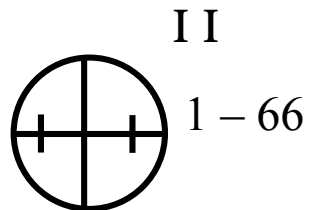
(Brigadna pokretna
logistička baza, 1. brigade)



(Motrionica, 1. bojna
66. pješačka pukovnija)

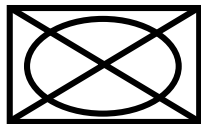
49. Određivanje roda nadređene postrojbe postaje PP je u većini slučajeva izostavljeno zbog toga jer nije potrebno za osnovne funkcije postaje PP. U rijetkim slučajevima određivanje može biti prikazano ispod pokazatelja postrojbe.

Primjer:



50. Instalacije ili djelovanja BSP, elementi BSP i motrionice predstavljene su pokazateljem postrojbe kojoj one pripadaju / pridodane / određene. (Odaberite jedan odgovor).

51. Upotpunite simbol pokretne logističke baze dolje prikazane i opisane.




(Brigadna pokretna logistička baza, 2. brigada (mehanizirana))

(NASTAVITE NA SLJEDEĆOJ STRANICI)

Odgovor na 50. pitanje

Instalacije ili djelovanja BSP, elementi BSP i motrionice predstavljaju se pokazateljem postrojbe kojoj one pripadaju.

Odgovor na 51. pitanje

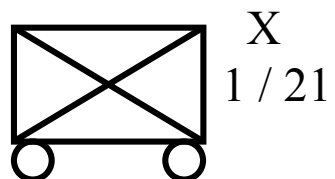


Da bi ste upotpunili prikazani simbol, trebali bi ste dodati na dnu simbola s lijeve i desne strane krugove.

52. Brigada obično upravlja jednom pokretnom logističkom bazom; zbog toga je samo označavanje brigade potrebno za predstavljanje logističke pokretne baze. Nacrtajte simbol opisan dolje.

(Brigadna pokretna logistička baza, 1. brigada, 21. pješačka divizija)

Odgovor na 52. pitanje





(Brigadna pokretna logistička baza, 1. brigada, 21. pješačka divizija)

53. Borbena bojna upravlja sa dvjema pokretnim logističkim bazama, borbenom logističkom pokretnom bazom i terenskom logističkom pokretnom bazom. Kada prikazujemo te logističke baze potrebno je za buduće prepoznavanje, a glede izbjegavanja zbunjivanja prikazivati ih na sljedeći način.

Zbog toga, bez obzira na terensku ili borbenu? skraćena se postavlja na lijevu stranu simbola pokretne logističke baze.

Primjeri:



(Terenska pokretna logistička baza, 1. bojna, 66. pješačka pukovnija)

(Borbena pokretna logistička baza, 1. bojna, 66. pješačka pukovnija)

Kada ista postrojba ima nekoliko motrionica, tada su one prikazane na sljedeći način



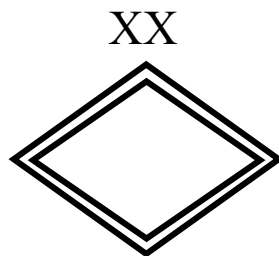
(Motrionica #1, 1. bojna, 66. pješačka pukovnija)




(Motrionica #2, 1. bojna, 66. pješačka pukovnija)

54. NEPRIJATELJSKE SNAGE. Simboli američke vojske upotrebljavaju se i za prikazivanje neprijateljskih postrojbi. Neprijateljski simboli prikazuju se crvenom bojom. Ukoliko je dostupna samo jedna boja, neprijateljski simboli prikazuju se dvostrukom linijom.

Primjeri:



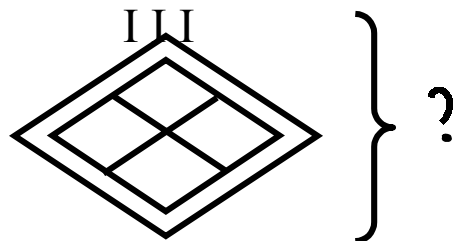
(neprijateljska divizija)



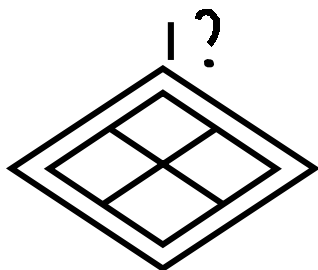
(neprijateljska motrionica)

55. Znak upitnik koristi se sa neprijateljskim simbolom te predstavlja neprovjerenu informaciju. Pozicija znaka upitnika prikazuje koja informacija je nepotvrđena.

Primjeri:



(Sve prikazane informacije su nepotvrđene)



(Veličina neprijateljske pješačke postrojbe je nepotvrđena)

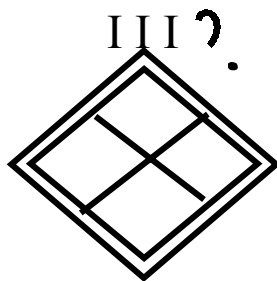
56. Prikažite prikladne simbole za neprijateljske postrojbe dolje opisane.

(Neprijateljska pukovnija, veličina nepotvrđena)

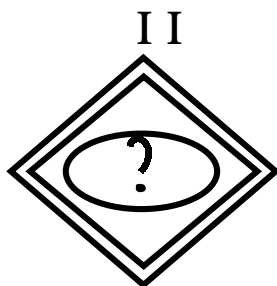
(neprijateljska tenkovska bojna, rod nepotvrđen)

(NASTAVITE NA SLJEDEĆOJ STRANICI)

Odgovor na 56. pitanje



(Neprijateljska pješačka pukovnija, veličina nepotvrđena)

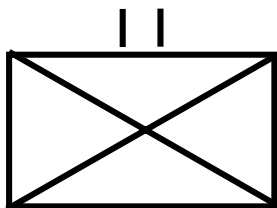


(Neprijateljska oklopna bojna, rod nepotvrđen)

57. Simboli koje ste do sada upoznali upotrebljavaju se na situacijskim zemljovidima i grafikama za predstavljanje vlastitih ili neprijateljskih postrojbi, instalacija ili djelovanja. Potrebna je standardizacija tehnika zbog što kvalitetnijeg predočavanja informacija bez stvaranja nerazumijevanja. Zbog toga su smjernice za grafičko prikazivanje taktičkih situacija postavljene u ovom dijelu teksta.

TRENTNA LOKACIJA. Simbol iscrtan punom linijom predstavlja trenutnu lokaciju postrojbe ili lokacije.

Primjer:



(lokacija pješačke bojne)

58. Simbol iscrtan _____ linijom predstavlja _____ lokaciju postrojbe ili instalacije.

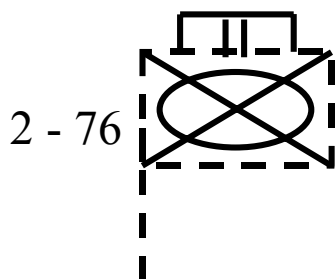
(NASTAVITE NA SLJEDEĆOJ STRANICI)

Odgovor na 58. pitanje

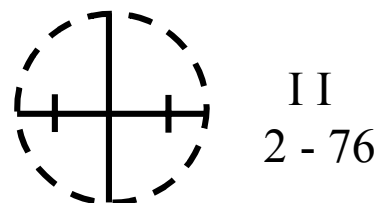
Simbol iscrtan punom linijom predstavlja trenutnu lokaciju postrojbe ili instalacije.

59. Simbol iscrtan isprekidanim linijom ----- predstavlja buduću ili planiranu lokaciju za postrojbe , zapovjedna mjesta, elemente BSP, instalacije ili djelovanja, motrionice ili prislušne postaje.

Primjeri:



(Buduća ili predložena lokacija zapovjednog mjesta bojne NOS-a)



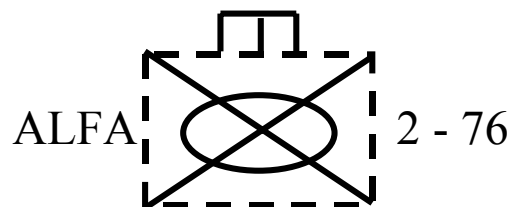
(Buduća ili predložena lokacija medicinskih instalacija)

60. Samo se vanjski dio osnovnog simbola prikazuje isprekidanom linijom. Linija koja izlazi iz simbola zapovjednog mjesta također se prikazuje isprekidanom linijom. Simbol roda ili oblika dužnosti postrojbe unutar osnovnog simbola, oznaka postrojbe te njena veličina prikazuju se punom linijom.

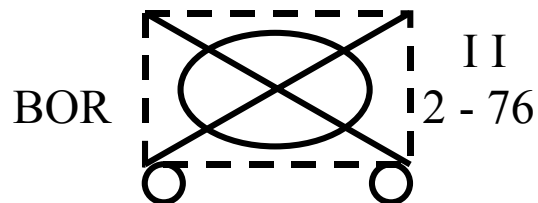
61. Koristeći prikladnu tehniku, prikažite buduću ili planiranu lokaciju ALFA tima, 2. bojne (mehanizirane), 76. pješачke pukovnije te pokretne logističke baze NOS 2-76, 2. bojna (mehanizirana), 76. pješачka pukovnija).

(NASTAVITE NA SLJEDEĆOJ STRANICI)

Odgovor na 61. pitanje



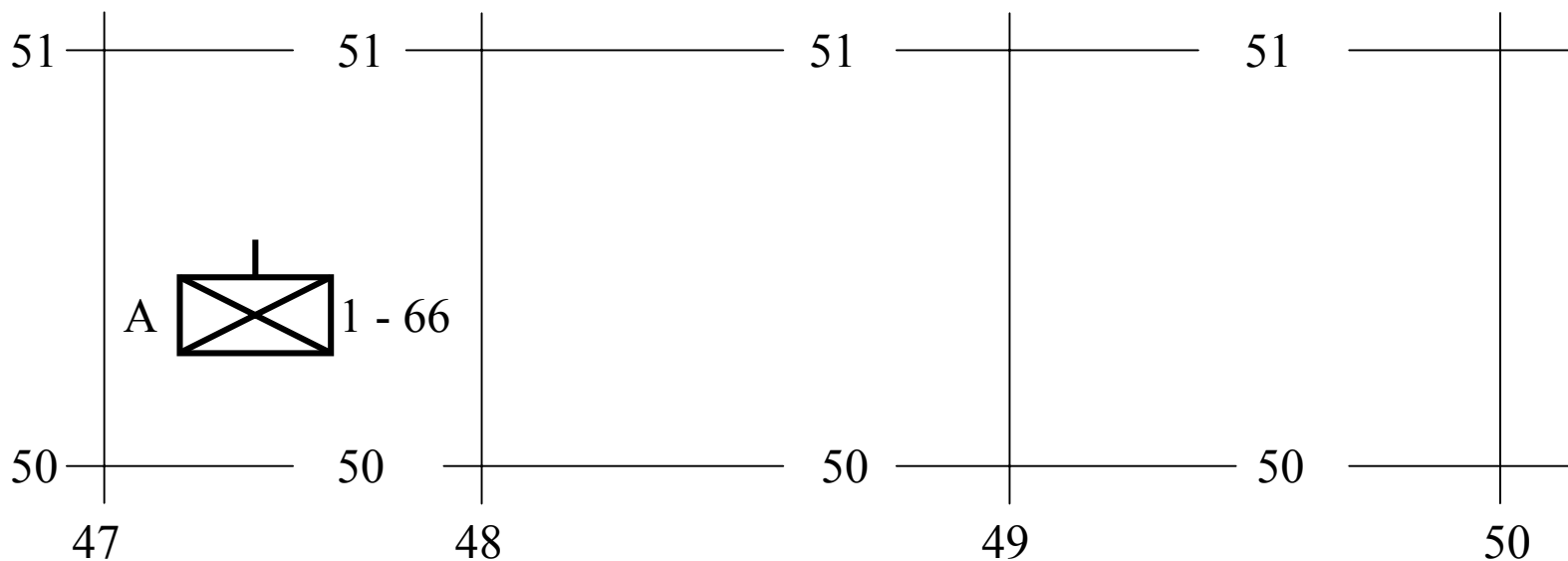
(Buduća ili predložena lokacija tima ALFA, 2. bojna (mehanizirana), 76. pješačka pukovnija).



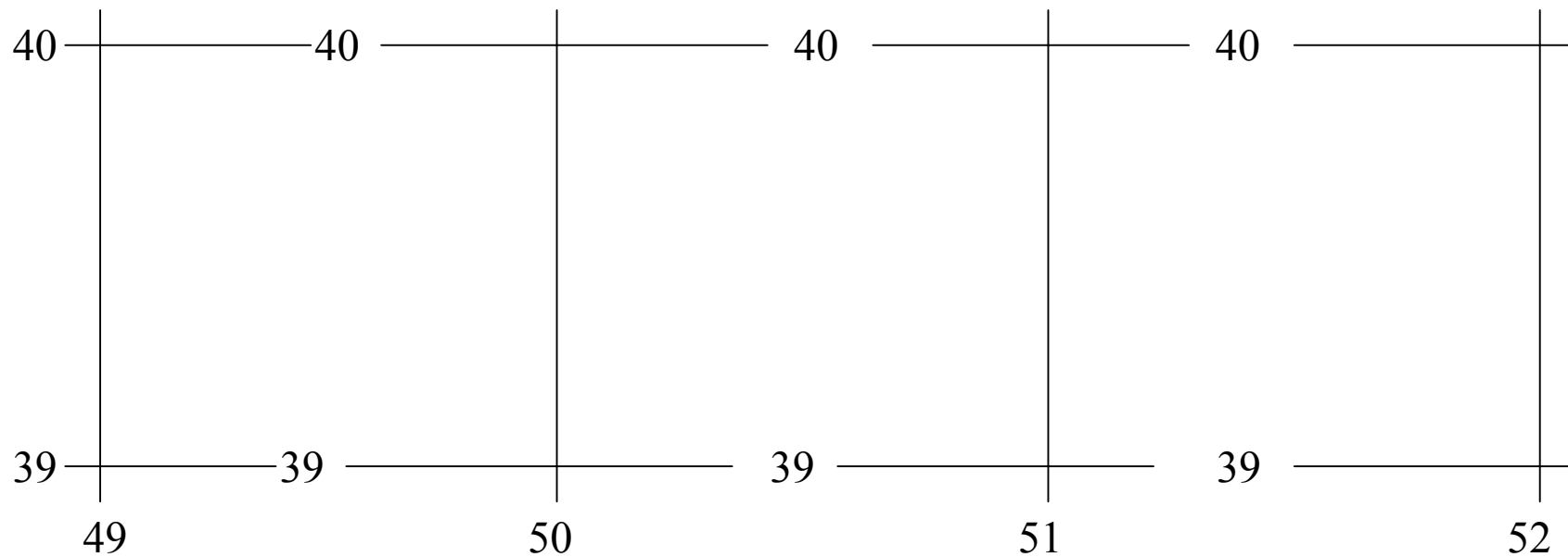
(Buduća ili predložena lokacija borbene pokretne logističke baze NOS-a 2 – 76 2. bojna (mehanizirana), 76. pješačka pukovnija)

62. Da bi ste prikazali lokaciju postrojbe, središte snaga predstavlja simbol postrojbe, pozicija gdje se nalazi većina snaga određene postrojbe.

Primjer:



(A satnija, 1. bojna, 66. pješačka pukovnija nalazi se na koordinatama 473504)

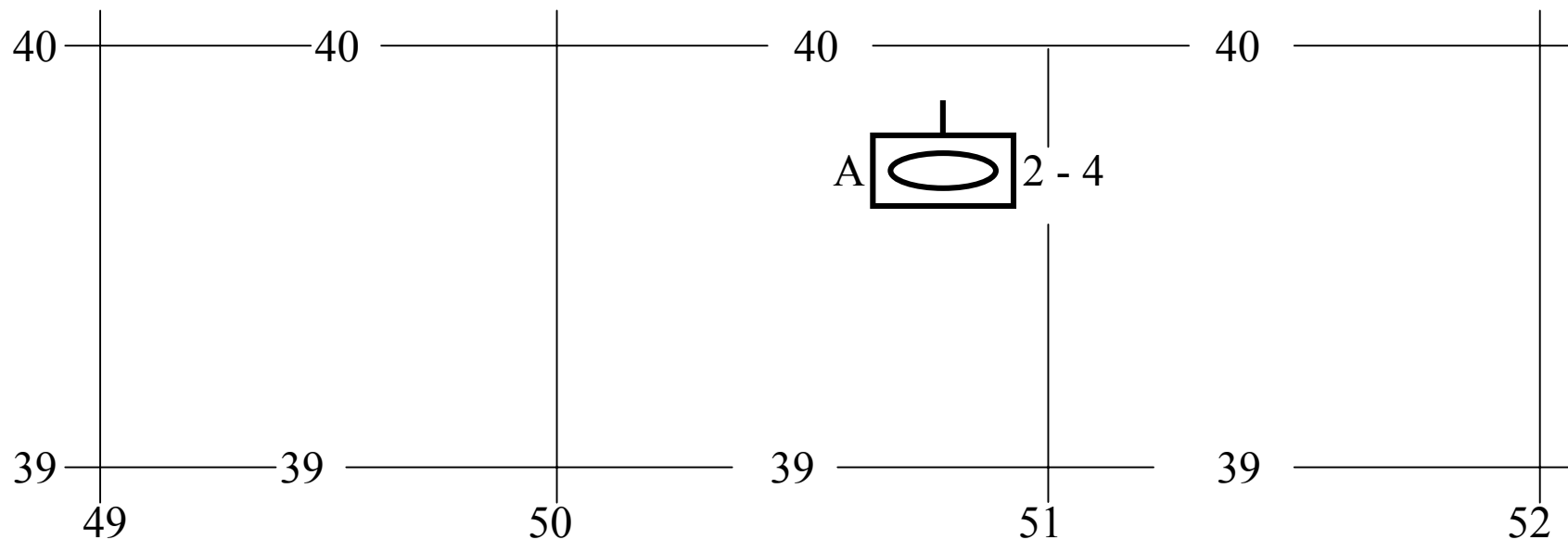


63. Da bi ste prikazali lokaciju postrojbe, _____ te postrojbe predstavlja simbol postrojbe. Sada kada znate pravilno postavljati simbol postrojbe da bi predstavili lokaciju postrojbe da vidimo koliko dobro možete primijeniti pravilo o lociranju postrojbe. Koristeći koordinate, grafički postavite A satniju, 2. bojne, 4.oklopne pukovnije koja se nalazi na koordinatama 507397.

(NASTAVITE NA SLJEDEĆOJ STRANICI)

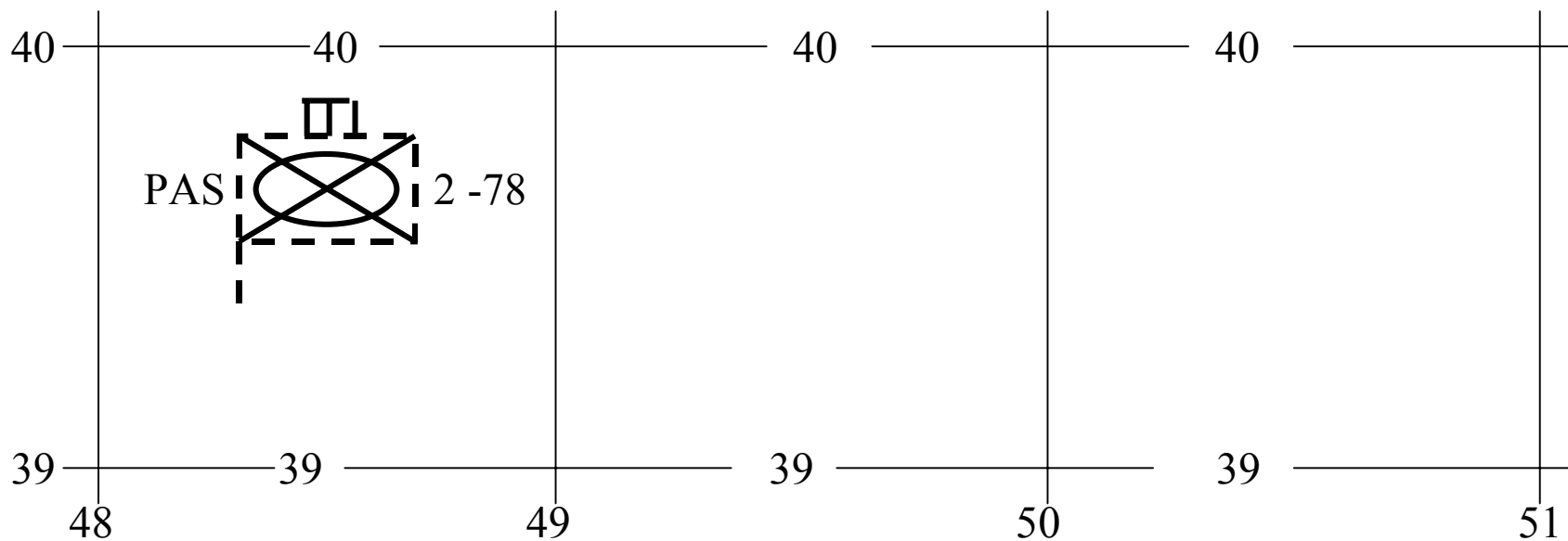
Odgovor na 63. pitanje

Da bi ste prikazali lokaciju postrojbe, središte snaga postrojbe predstavlja simbol glavnine snaga te postrojbe. Lokacija A satnije, 2. bojne, 4. oklopne pukovnije je prikazano dolje.



Primjer:

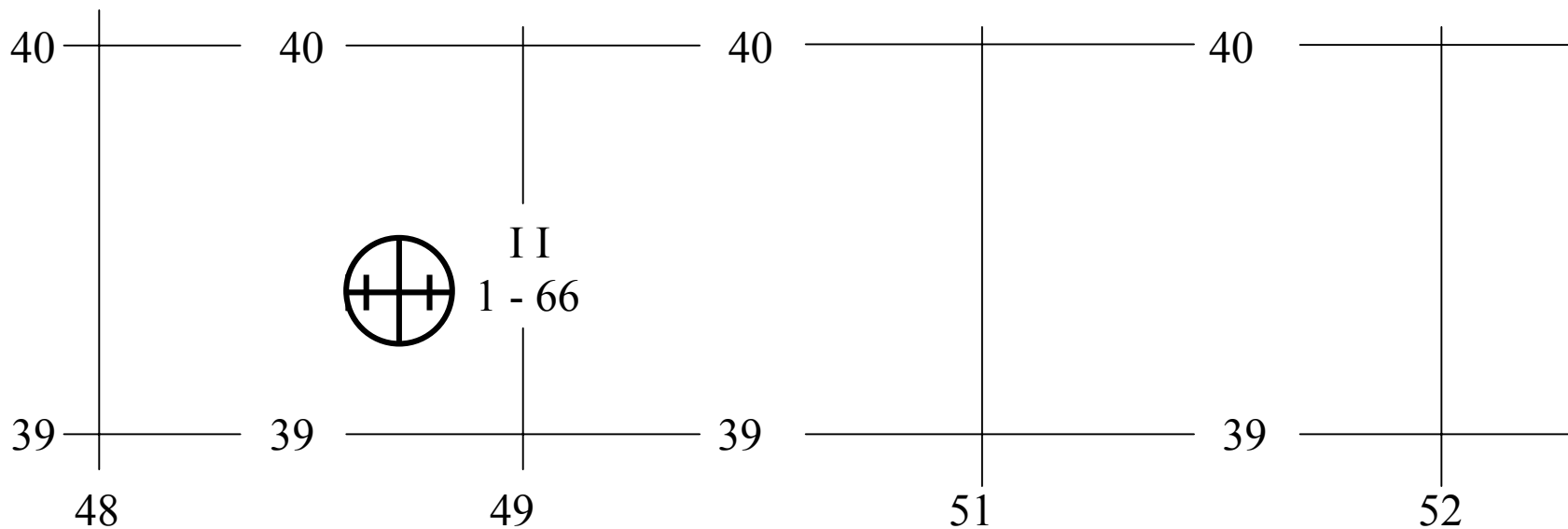
(Buduća lokacija zapovjednog mjesta, NOS-a PAS, 2. bojna (mehanizirana), 78. pješačka pukovnija nalazit će se na koordinatama 483394).



64. Da bi ste prikazali lokaciju zapovjednog mjesta, točka na kojoj završava kraj štapa predstavlja točnu lokaciju zapovjednog mjesta.

65. Kao što ste uočili, simbol središta snaga postrojbe i točka na kojoj štap simbola zapovjednog mjesta završava upotrebljava se za predstavljanje trenutne, buduće ili planirane lokacije.

66. Simbol središta postaje prve pomoći predstavlja njenu točnu lokaciju. Središte ostalih instalacija BSP ili simbola djelovanja predstavljaju općenitu lokaciju.



67. Simbol središta postaje prve pomoći predstavlja njenu _____ lokaciju.
Središte ostalih instalacija BSP ili djelovanja predstavlja njenu _____
lokaciju.

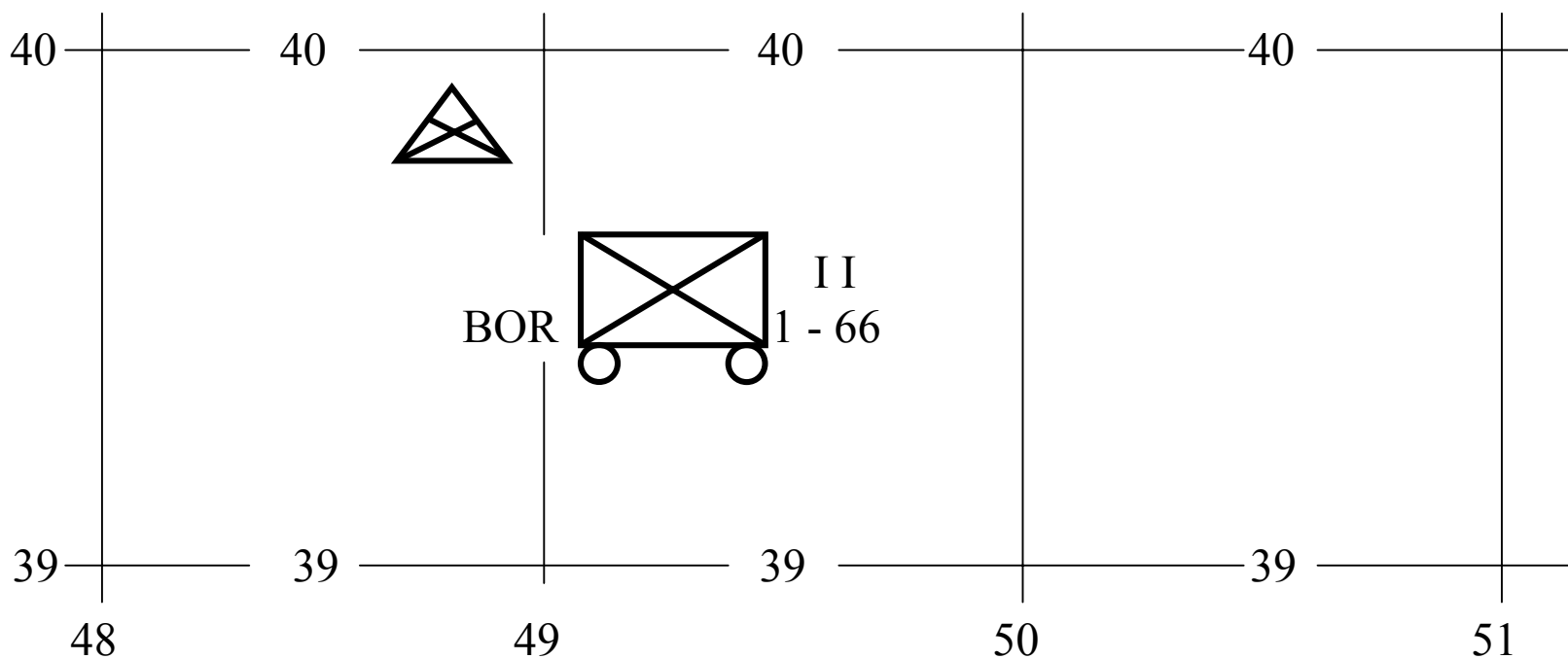
Odgovor na 67. pitanje

Simbol središta postaje prve pomoći predstavlja njenu točnu lokaciju.

Središte ostalih instalacija BSP ili djelovanja predstavlja njenu općenitu lokaciju.

68. Simbol središta motrilišta ili prislušne postaje te simbol pokretne logističke baze predstavljaju općenitu blizinu njihova središta snaga.

Primjeri:



(Motrionica ili prislušna postaja postavljena na lokaciji 489398. Borbena pokretna logistička baza, 1. bojna, 66. pješačka pukovnija postavljena je na lokaciji 49239.

69. Simbol središta motrionice ili prislušne postaje ili simbola pokretne logističke baze predstavlja općenitu blizinu njihova _____.

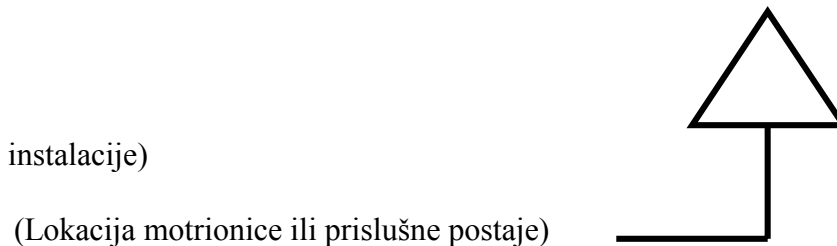
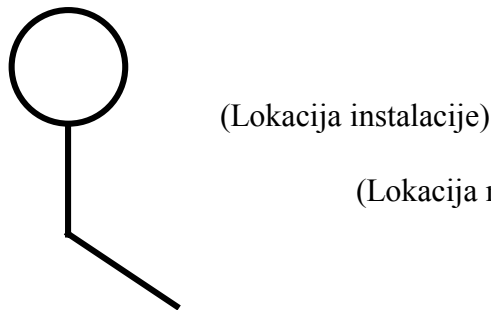
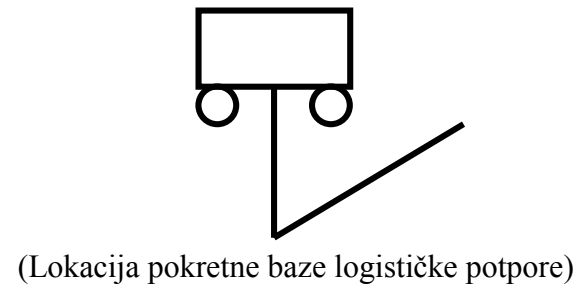
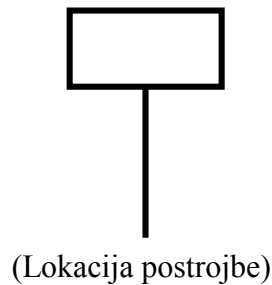
(NASTAVITE NA SLJEDEĆOJ STRANICI

Odgovor na 69. pitanje

Simbol središta motrionice ili prislušne postaje ili simbola pokretne logističke baze predstavlja općenitu blizinu njihova središta snaga.

70. Postrojbe i instalacije često se nalaze u neposrednoj blizini te je grafički teško prikazati njihovu lokaciju. Da bismo spriječili prenatrpanost simbolima i sačuvali preglednost, koristimo postupak vanjskog prikazivanja. Kada se koristimo tim postupcima, zajedno sa simbolima postrojbe pokretne logističke baze instalacija ili djelovanja te simbola motrilišta ili logističkih postaja, tada se linija produžuje okomito iz središta donje linije simbola. Linija može biti ravna ili može biti prelomljena kao što je prikazano. Točka na kojoj završava produžetak predstavlja lokaciju tog simbola.

Primjeri:



71. Kada se koristimo postupkom vanjskog prikazivanja simbola za postrojbe, pokretne logističke baze, instalacije, produžujemo liniju okomito iz _____ donje linije simbola te liniju lomimo najviše _____ ukoliko je potrebno.

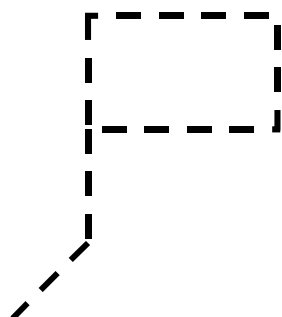
(NASTAVITE NA SLJEDEĆOJ STRANICI)

Odgovor na 71. pitanje

Kada se koristimo postupkom vanjskog prikazivanja simbola za postrojbe, pokretne logističke baze, instalacije, produžujemo liniju okomito iz središta donje linije simbola te liniju lomimo najviše jednom ukoliko je potrebno.

72. Tehnika vanjskog prikazivanja može biti korištena za prikazivanje bilo budućih ili planiranih te trenutnih lokacija. Da bismo predstavili buduću lokaciju, crtamo isprekidanu liniju. Za prikazivanje simbola zapovjednog mjesta, dodajemo pomoćnu liniju na okomitu liniju iz simbola zapovjednog mjesta. Linija iz simbola zapovjednog mjesta mora biti produžena okomito iz donjeg lijevog kuta simbola.


Primjer:



(Buduća ili predložena lokacija zapovjednog mjesta)

73. Kada simbol prikazuje da je točna lokacija pomoćna, točna lokacija je prikazana pomoćnom okomitom linijom. Ukoliko simbol predstavlja uobičajenu lokaciju postupkom vanjskog prikazivanja tada je uobičajena lokacija prikazana na točki gdje kraj pomoćne linije završava. Pomoćna tehnika sama za sebe ne povećava preciznost ili točnost lokacije.

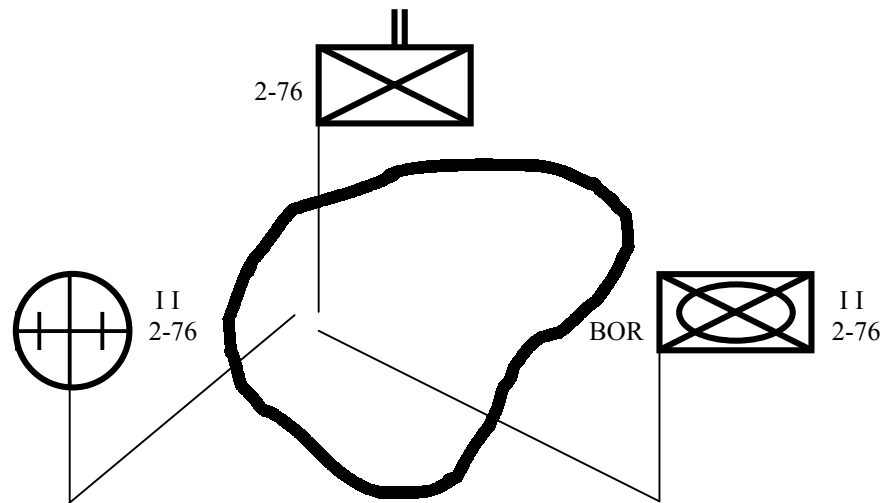
74. Prikažite zapovjedno mjesto, postaju PP i pokretnu logističku postaju, 2. bojne (meh.), 76. pješачke pukovnije unutar označenog područja prikazanog dolje.



(NASTAVITE NA SLJEDEĆOJ STRANICI)

Odgovor na 74. pitanje.


Da bismo prikazali zapovjedno mjesto, postaju PP te pokretnu logističku bazu unutar prikazanog područja, morat ćemo se koristiti postupkom vanjskog prikazivanja simbola.



75. MJERE TAKTIČKOG NADZORA (*TACTICAL CONTROL MEASURES*). Ovaj dio teksta objašnjava tehnike i grafička prikazivanja mjera nadzora korištenih za prikazivanje napadajnih i obrambenih shema manevra.

76. PODRUČJA PRIKUPLJANJA (*ASSEMBLY AREAS*). Područje prikupljanja je područje gdje se postrojbe prikupljaju glede priprema za buduća djelovanja. Područja prikupljanja su prikazana kao područja sa simbolom postrojbe postavljenim unutar simbola. Linija prikazuje vanjska ograničenja rasporeda snaga. Zauzeto mjesto okupljanja prikazano je punom linijom. Simbol zapovjednog mjesta postrojbe može se upotrijebiti ukoliko je poznata lokacija zapovjednog mjesta. Buduća ili predložena područja prikupljanja prikazana su _____ linijom.

Primjeri:



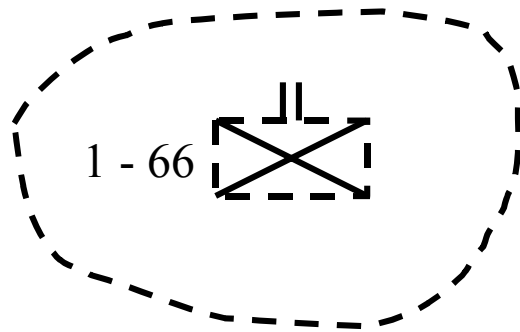
(Područje prikupljanja, 1. bojna, 66. pješачka pukovnija)

Odgovor na 76. pitanje

Buduća ili predložena područja prikupljanja prikazana su isprekidanom linijom.

77. Prikažite predloženo područje prikupljanja zauzeto od 1. bojne, 66. pješačke pukovnije.

Odgovor na 77. pitanje

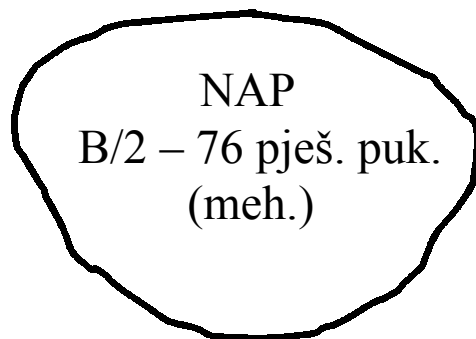


(Predloženo područje prikupljanja, 1. bojna, 66. pješačka pukovnija)

Jeste li upamtili prikazati vanjsku liniju simbola postrojbe isprekidanom linijom?

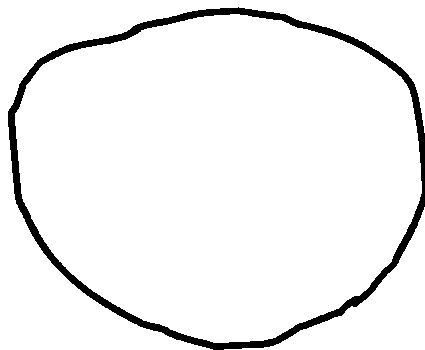
78. POZICIJA ZA NAPAD (*ATTACK POSITION*). Pozicija za napad je posljednja zaklonjena i prikrivena pozicija bliža polaznoj crti, koja je zauzeta od elemenata te služi završnoj koordinaciji i razmještanju za početnu formaciju napada. Pozicija napada prikazuje se punom linijom sa skraćenicom NAP unutar simbola. Oznaka postrojbe, broj ili kodni naziv mogu biti upotrijebljeni kada je potrebno glede identifikacije.

Primjer:



(Napadna pozicija, B satnija, 2. bojna (mehanizirana), 76. pješačka pukovnija)

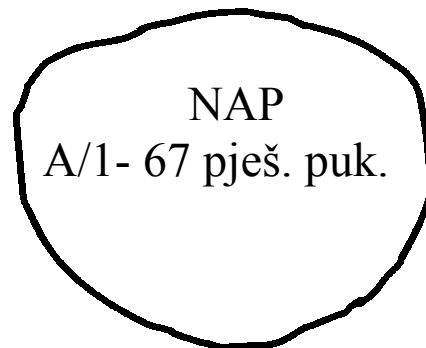
79. Temeljno informacijama prethodno prikazanima, upotpunite sljedeći simbol.



(Napadna pozicija, A satnija, 1. bojna, 67. pješačka pukovnija)

(NASTAVITE NA SLJEDEĆOJ STRANICI)

Odgovor Na 79. pitanje.

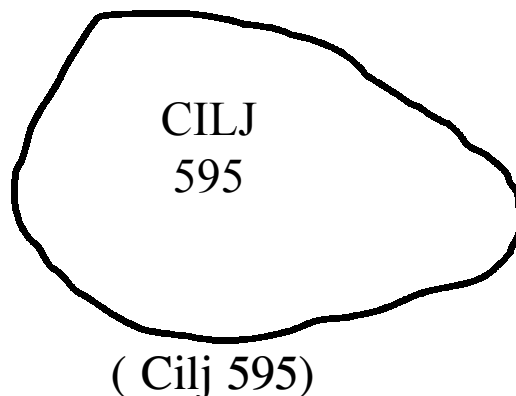


(Napadna pozicija, A satnija, 1. bojna, 67. pješačka pukovnija)

Kao minimum, trebali biste dodati skraćenicu "NAP". Budući da je dana oznaka postrojbe, također možete dodati oznaku postrojbe za identifikaciju.

80. CILJEVI (*OBJECTIVES*). Ciljevi su obično karakterizirani kao ključna zemljišta, područja ili neprijateljske snage, koji trebaju biti zauzeti ili napadnuti u napadu. Ciljevi su prikazani punom linijom i označavaju se slovima “CILJ”(OBJ) te brojem, slovima, kodnim imenom ili oznakom postrojbe.

Primjer:



NAPOMENA: KADA SE BROJEVI RABE ZA OZNAČAVANJE CILJEVA, POKUŠAJTE DA NE USPOSTAVLJATE VAŽNOST, PRIORITETE ILI KORAKE ZAUZIMANJA CILJEVA.

81. Prikažite ciljeve opisane dolje.

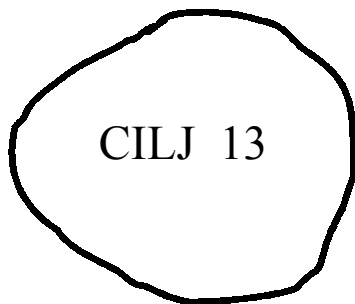
(Cilj 13)

(Cilj A satnija, 1. bojna, 66. pješачka pukovnija)

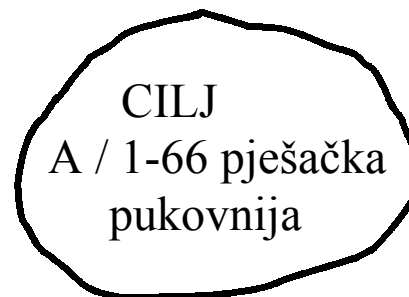
(Cilj CRVENO)

(NASTAVITE NA SLJEDEĆOJ STRANICI)

Odgovor na 81. pitanje



(Cilj 13)



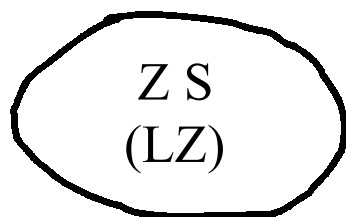
(Cilj A satnija, 1. bojna, 66. pješačka pukovnija)



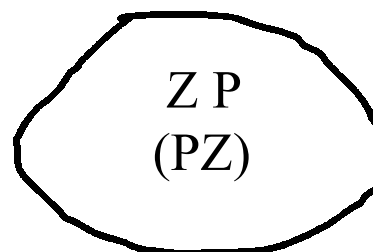
(Cilj Crveno)

82. U dodatak simbolima koje ste vidjeli predstavljene zatvorenim linijama, postoje raznovrsna područja koja su zatvorena linijom. Takva područja prepoznajemo prema namjeni određenoj unutar simbola.

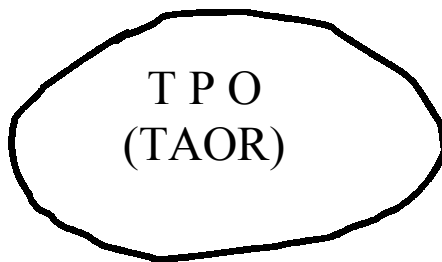
Primjeri:



(Zona slijetanja)



(Zona prihvata)



(Taktičko područje odgovornosti)

NAPOMENA: BROJEVI, SLOVA, KODNI NAZIVI TE SIMBOLI POSTROJBI MOGU BITI DODANI ISPOD SIMBOLA GLEDE IDENTIFIKACIJE.

83. Zatvorene linije se rabe za predstavljanje _____ područja. Takva područja identificirana su prema _____ postavljenoj unutar simbola.

Prikažite sljedeća područja:

(Područje operacija za A satniju, 1. bojna, 66. pješачka pukovnija)

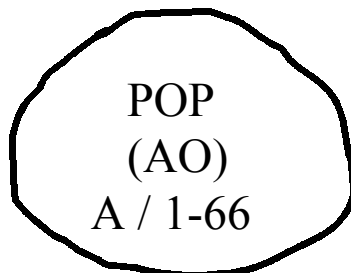
(Zona iskakanja)

(Baza paljbene potpore)

(NASTAVITE NA SLJEDEĆOJ STRANICI)

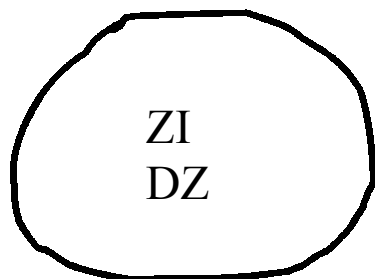
Odgovor na 83. pitanje

Zatvorene linije se rabe za predstavljanje raznovrsnih područja. Takva područja identificirana su prema namjeni postavljenoj unutar simbola.




(Područje operacija za A Satniju, 1. bojna, 66. pješačka pukovnija)

**NAPOMENA: UKOLIKO STE NACRTALI SIMBOL POSTROJBE UNUTAR
PODRUČJA OPERACIJA NISTE POGRIJEŠILI.**



(Zona iskakanja)



(Baza paljbene potpore)

84. SKRAĆENICE (*ABBREVIATIONS*). Skraćenice se često koriste sa vojnim simbolima na zemljovidima i grafikama. Međutim, samo se standardne skraćenice mogu koristiti. Kada nema autoriziranih standardnih skraćenica, služimo se slovkanjem. U drugom slučaju, rabe se samo velika slova, a sve riječi i skraćenice postavljene su vodoravno (osim kada se označava ruta ili smjerovi napredovanja) sa usjeverenim zemljovidom.

85. Samo se _____ skraćeniice upotrebljavaju na zemljovidima i grafikama. Kada se riječ odvaja na slogove ili piše u skraćeniici, rabe se samo _____ slova. Sve riječi i skraćeniice su _____ (osim kada označavamo rute ili smjerove napredovanja) sa zemljovidom orijentiranim sjeverno prema vrhu zemljovida.

(NASTAVITE NA SLJEDEĆOJ STRANICI)

Odgovor na 85. pitanje

Samo se standardne ili autorizirane skraćénice upotrebljavaju na zemljovidima i grafikama. Kada se riječ odvaja slovkanjem ili piše u skraćénici, rabe se samo velika slova. Sve riječi i skraćénice su postavljene vodoravno (osim kada označavamo rute ili smjerove napredovanja) sa zemljovidom orijentiranim sjeverno prema vrhu zemljovida.

86. Napomene su postavljene na operativnim zemljoovidima i grafikama da bi se čitale s lijeva na desno sa usmjerenim zemljoovidom, (sjever je na vrhu zemljovida!) To odgovara svim zemljoovidima bez obzira na poziciju ili smjer kretanja prijateljskih snaga.

87. Napomene su postavljene na operativnim zemljovidima i grafikama da bi se čitale s _____ na _____ bez obzira na poziciju ili _____ vlastitih snaga.


(NASTAVITE NA SLJEDEĆOJ STRANICI)

Odgovor na 87. pitanje

Napomene su postavljene na operativnim zemljovidima i grafikama da bi se čitale s lijeva na desno bez obzira na poziciju ili smjer kretanja vlastitih snaga.

88. OBRAMBENE POZICIJE (*DEFENSIVE POSITIONS*). Ukoliko su obrambene pozicije pripremljene u području djelovanja, tada je to područje zaokruženo linijom koja je prekinuta na dnu pozicije gdje se postavlja veličina simbola postrojbe koji se nalazi na poziciji. Zatvorena strana simbola usmjerena je prema najvjerojatnijoj opasnosti od neprijatelja. Vojni simbol postrojbe u obrambenoj poziciji mora se nalaziti u središtu zatvorene linije, bilo putem izravnog postavljanja ili putem postavljanja izvan simbola. Simbol zapovjednog mjesta postrojbe u obrambenim pozicijama može se rabiti samo ukoliko je poznata lokacija zapovjednog mjesta.

Primjer:



(Obrambena pozicija, C satnija, 1. bojna, 66. pješačka pukovnija)

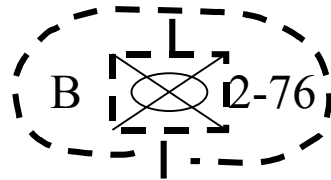
89. Obrambene pozicije koje su predložene ili pripremljene, ali nisu zauzete prikazuju se isprekidanom linijom.

90. Prikažite obrambene pozicije prikazane dolje.

(Planirani obrambeni položaj, B satnija, 2. bojna (Mehanizirana), 76. pješačka pukovnija)

(NASTAVITE NA SLJEDEĆOJ STRANICI)

Odgovor na 90. pitanje.



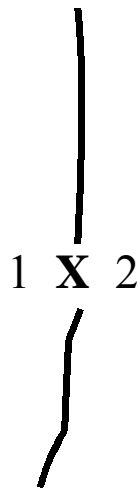
(Planirana obrambena pozicija, B satnija, 2. bojna (mehanizirana), 76. pješačka pukovnija)

Planirani obrambeni položaj koji ste nacrtali trebao bi uključivati simbol obrambene postrojbe budući da je navedeno određenje postrojbe.

91. OKOMITE GRANICE (*LATERAL BOUNDARIES*). Služe se za nadzor manevra i paljbe susjednih postrojbi.

U napadnim djelovanjima, granice uspostavljaju zone djelovanja, dok u obrani one uspostavljaju sektore odgovornosti. Granice su predstavljene linijom sa veličinom postrojbe prikazanoj pogodnim intervalima. Određenje postrojbe dopunjeno je oznakom roda ili određenjem nacionalnosti, prema potrebi te su postavljeni na obje strane pokazatelja veličine. Najveći ešalon susjednih postrojbi koji dijeli granicu uvijek je prikazan na granici.

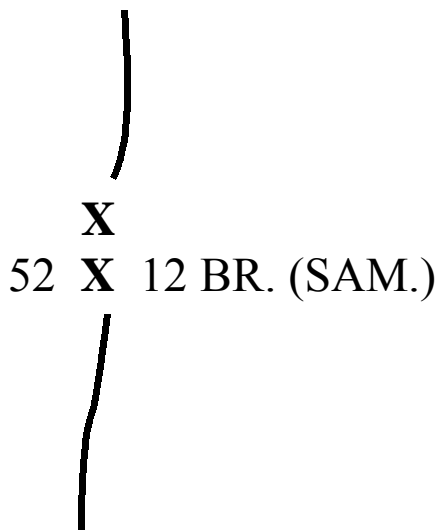
Primjer:



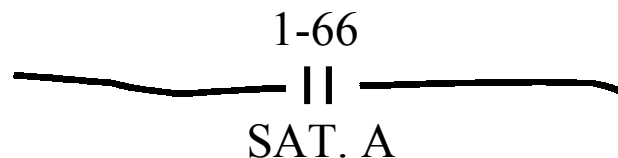
(Granica razdvaja 1. i 2. brigadu (postrojbe iste veličine))

92. Najveći ešalon susjednih postrojbi koji dijeli granicu uvijek je prikazan na granici.

93. Proučite ovaj primjer granice koju dijele dvije postrojbe različite veličine.



(Granica razdvaja 52. pješačku diviziju te 12. brigadu (samostalnu), Postrojbe različite veličine)



(Granica razdvaja 1. bojnu, 66. pješačke pukovnije i A satniju postrojbe nejednake veličine)

94. Upotpunite sljedeća pravila:

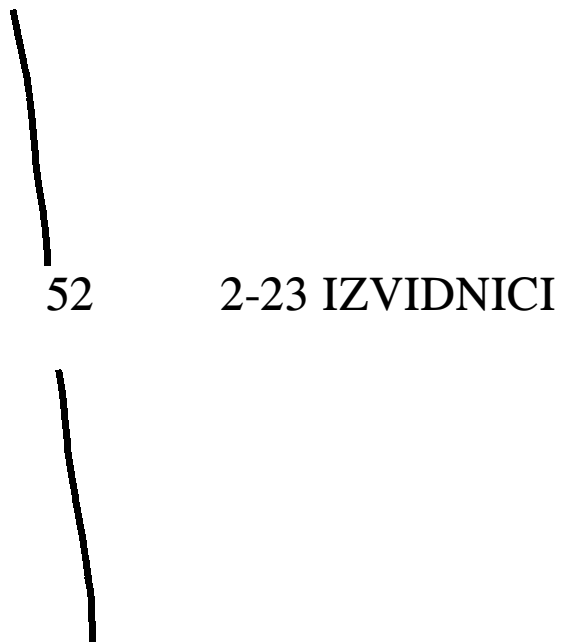
Kada granice razdvajaju postrojbe n veličine, simbol v postrojbe postavlja se na g. Određenje postrojbe ispisuje se sa strane da predstavi njenu v.

Odgovor na 94. pitanje

Kada granice razdvajaju postrojbe nejednake veličine, simbol veličine veće postrojbe postavlja se na granicu. Određenje manje postrojbe ispisuje se sa strane da predstavi njenu veličinu.

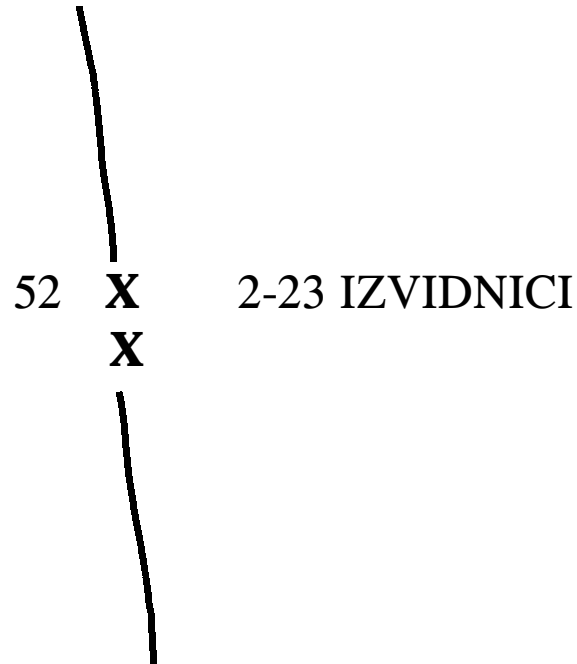
NAPOMENA: UPAMTITE ! SVA PISANJA NA GRAFIKAMA PIŠU SE VELIKIM SLOVIMA I VODORAVNO, (OSIM KADA PRIKAZUJEMO RUTE ILI SMJEROVE NAPREDOVANJA).

95. U potpunosti granice razgraničenja prikazane i opisane dolje.



(Granice razdvajaju 52. pješачku diviziju i 2. eskadrilu, 23. izvidničke pukovnije)

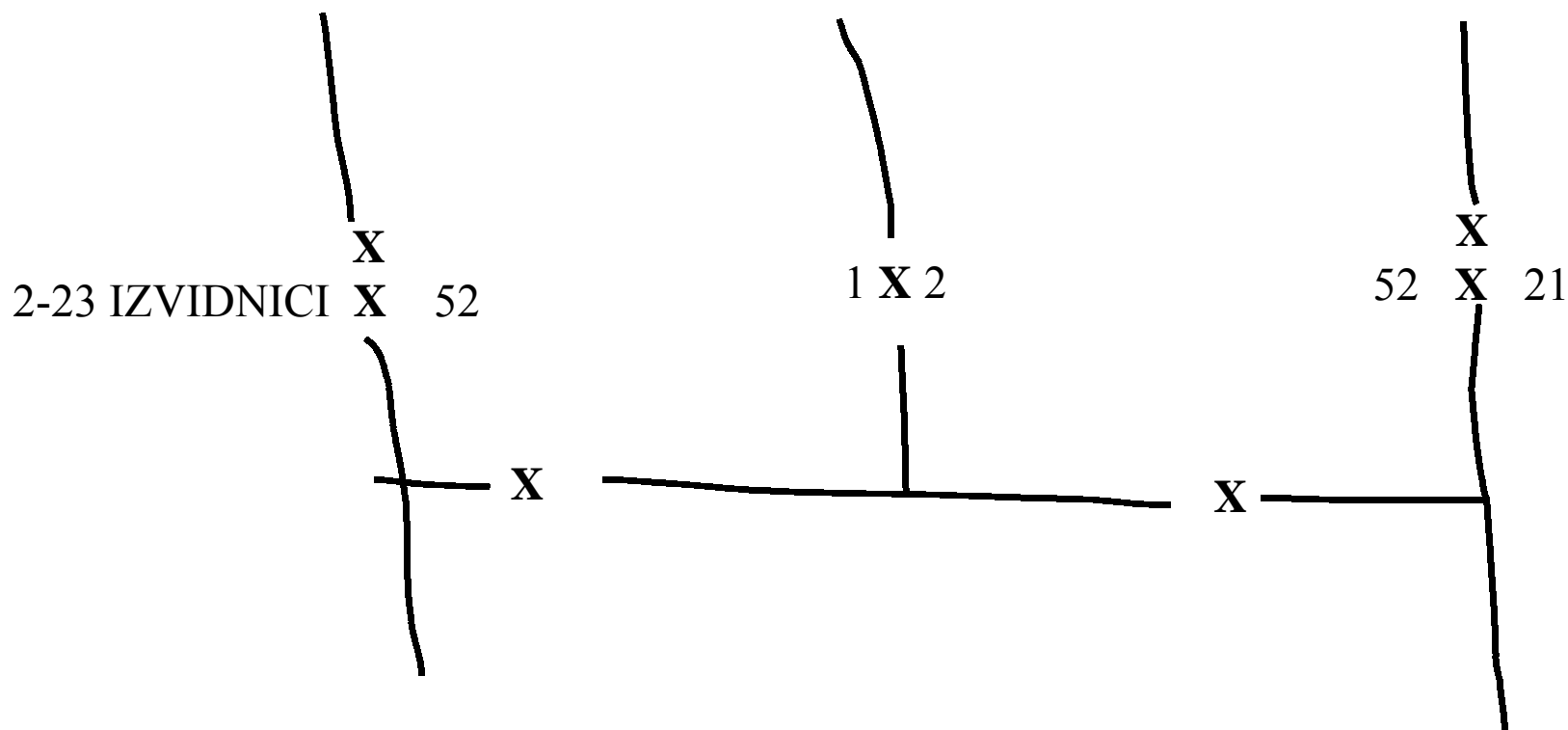
Odgovor na 95. pitanje



(Granice razdvajaju 52. pješачku diviziju i 2. eskadrilu, 23. izvidnička pukovnije)

Granica razdvaja postrojbe nejednake veličine. Trebate postaviti simbol veličine veće postrojbe.

96. Proučite ovaj primjer pozadinskih granica



(Gore su prikazane pozadinske granice 1. i 2. brigade, 52. pješačke divizije (meh.))

Upotpunite sljedeće rečenice:

Ukoliko je prikazana _____ granica, simbol _____ duž granice odgovara _____ postrojbi _____ postrojbe. Nepotrebno je prikazivati određenje postrojbe na pozadinskim granicama. Postrojbeno određenje na okomitim granicama dovoljno je za identificiranje postrojbe koja dijeli pozadinsku granicu.

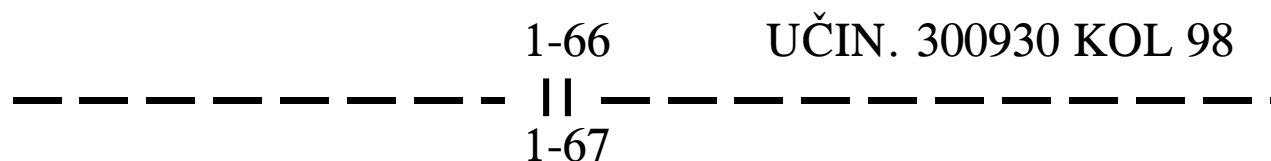
NAPOMENA: SKRAĆENICA “NOS” JE UKLJUČENA ZAJEDNO SA ODREĐENJEM POSTROJBE NA GRANICI KADA JE TO POTREBNO.

Odgovor na 96. pitanje

Ukoliko je prikazana pozadinska granica, simbol veliĉine duŹ granice odgovara manjoj postrojbi udaljenije postrojbe.

97. PLANIRANE GRANICE (*PROPOSED BOUNDARIES*). Planirane granice prikazane su isprekidanim linijama i označene da predstavljaju učinkovit datum, vremensku grupu, mjesecu, godinu, ukoliko poznajemo.

Primjer:



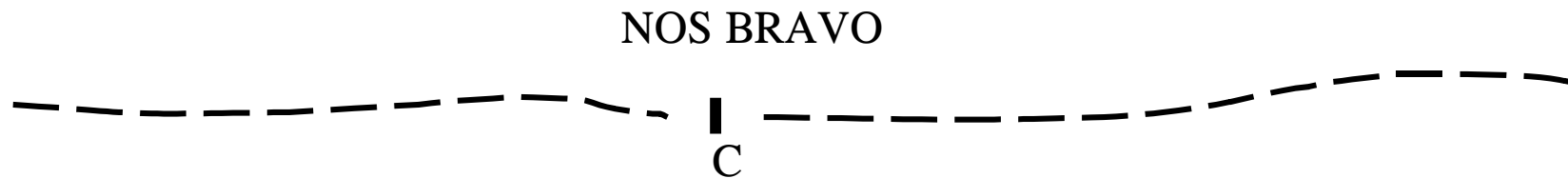
(Planirana granica koja razdvaja 1.bojnu, 66.pješačke pukovnije i 1.bojnu, 67.pješačke pukovnije, postaje učinkovita 300930 kol.98).

98. Prikažite planiranu granicu koja razdvaja NOS BRAVO i C satniju.

NAPOMENA: SVA PISANJA NA GRAFIKAMA SU VELIKIM PISANIM SLOVIMA U VODORAVNOM NIZU (OSIM KADA OZNAČAVAMO SMJEROVE ILI PRAVCE NAPREDOVANJA).

(NASTAVITE NA SLJEDEĆOJ STRANICI)

Odgovor na 98. pitanje.



(Planirana granica između NOS BRAVO i C satnije)

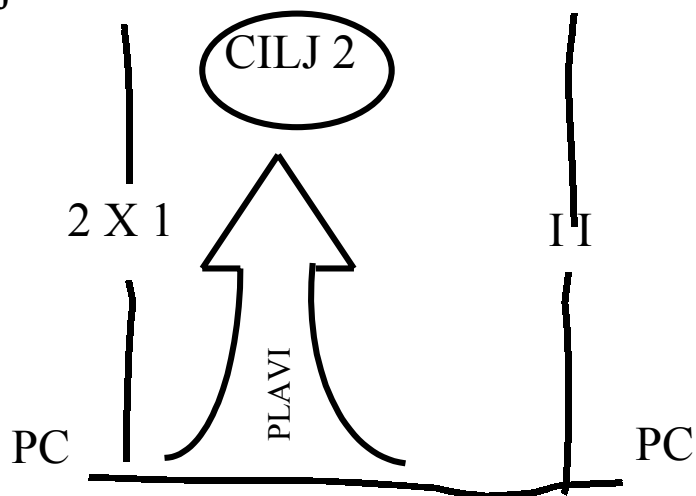
Jeste li zapamtili uključiti skraćenicu “NOS” na granicu?

99. SMJEROVI NAPREDOVANJA (*AXIS OF ADVANCE*). Smjer napredovanja prikazan je otvorenom strelicom od polazne crte do cilja. Ona prikazuje glavnu rutu koja će se slijediti. Smjer napredovanja obično je označen kodnim nazivom ili određenjem postrojbe.

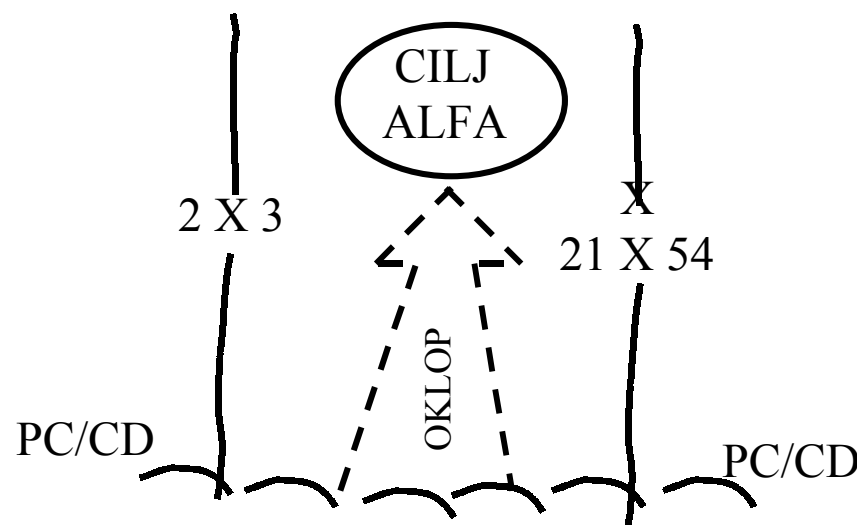
100. SMJER NAPREDOVANJA (*AXIS OF ADVANCE*). Smjer napredovanja prikazan je _____ strelicom obično nacrtanu od p _____ do _____. On predstavlja glavnu rutu koja će se slijediti. Zapovjednik određuje smjer napredovanja te on može biti određen u svim smjerovima po odluci zapovjednika. Smjer kretanja koji je u uporabi prikazuje se punom linijom. P _____ smjer djelovanja prikazan je _____ linijom te može biti označen sa _____, _____ grupom, _____, i _____, ukoliko znamo.

Smjer napredovanja obično je određen kodnim nazivom ili određenjem postrojbe.

Primjer:



(Smjer napredovanja PLAVI)



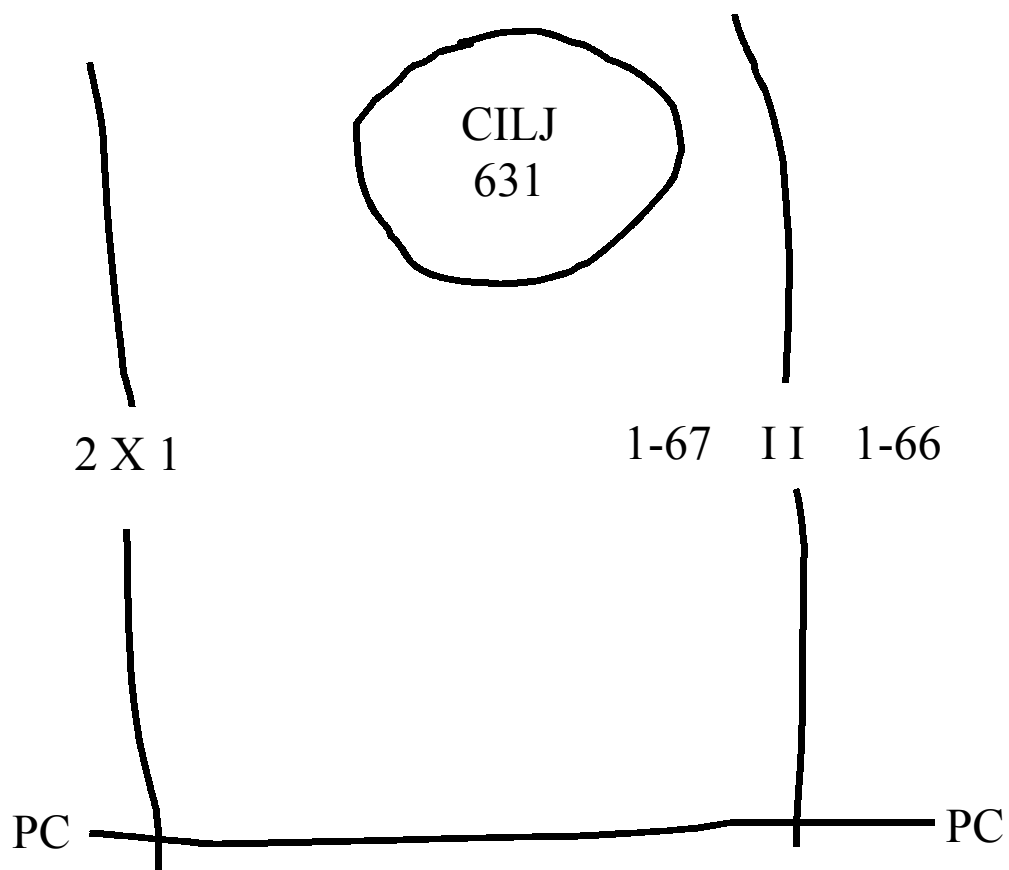
(Planirani smjer napredovanja OKLOP)

NAPOMENA: POGLEDAJTE DA NA PRIKAZANIM SLIKAMA PRAVILO
“PISATI S LIJEVA NA DESNO” NIJE PRIMIJENJENO ZBOG
PRAVILA IZNIMKE SMJERA NAPREDOVANJA.

Odgovor na 100. pitanje.

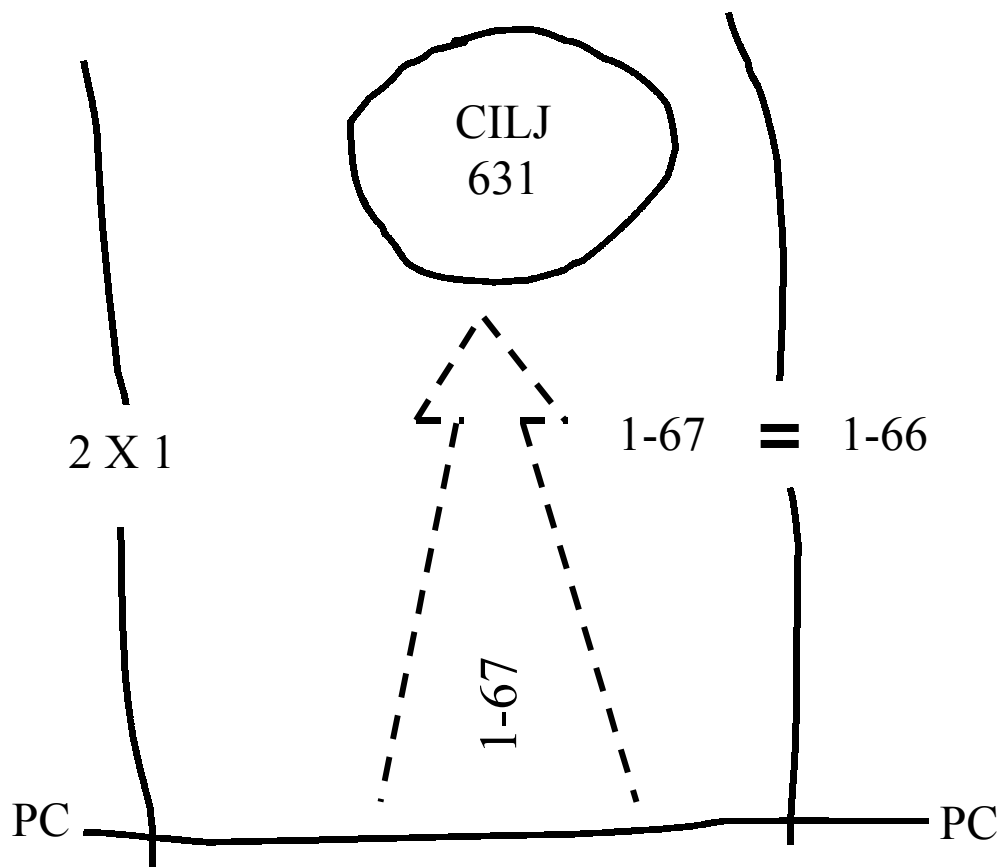
Smjer napredovanja prikazan je otvorenom strelicom obično nacrtanu od polazne crte do cilja. On predstavlja glavnu rutu koja će se slijediti. Zapovjednik određuje smjer napredovanja te on može biti određen u svim smjerovima po odluci zapovjednika. Smjer kretanja koji je u uporabi prikazuje se punom linijom. Planirani smjer djelovanja prikazan je isprekidanom linijom te može biti označen sa datumom, vremenskom grupom, mjesecom, i godinom, ukoliko znamo.

101. Prikažite planirani smjer napredovanja kojim će se koristiti 1.bojna, 67. pješačka pukovnija da bi zauzela cilj 631.




Odgovor na 101. pitanje

(Planirani smjer kretanja 1.bojna, 67.pješačka pukovnija)



102. SMJER NAPADA (*DIRECTION OF ATTACK*). Smjer napada je specifičan smjer koji će središte snaga (većina paljbene moći) slijediti. Smjer napada je najograničeniji oblik nadzora koji može biti dodijeljen postrojbi. Najčešće se rabi za protunapade i noćne napade. Smjer napada prikazan je punom linijom sa strelicom koja polazi sa polazne crte do cilja. Strelica smjera napada nije ničime označena.

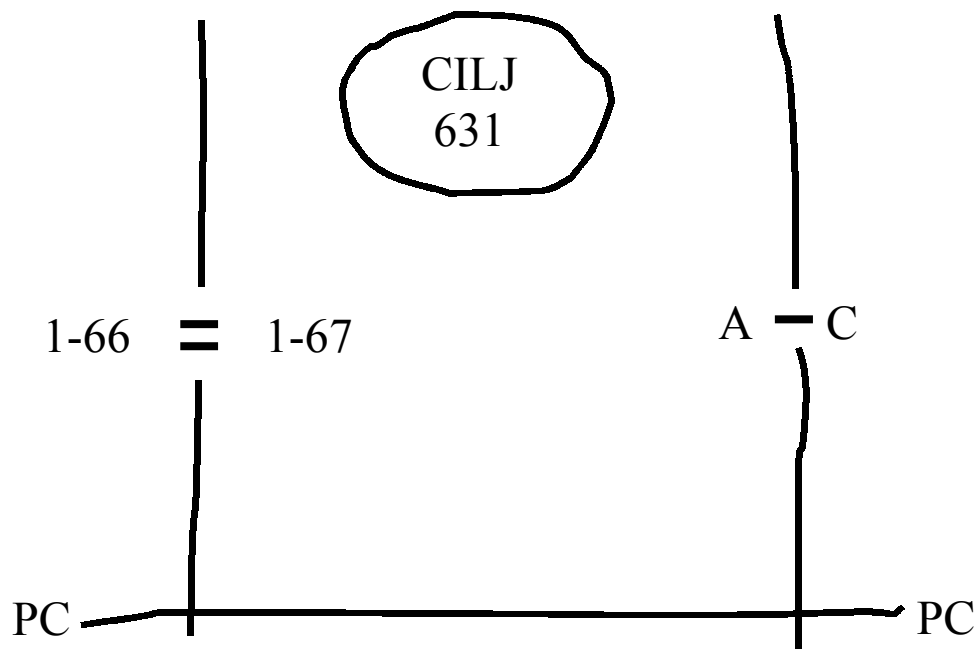
Primjer:



(Strelica smjera napada)

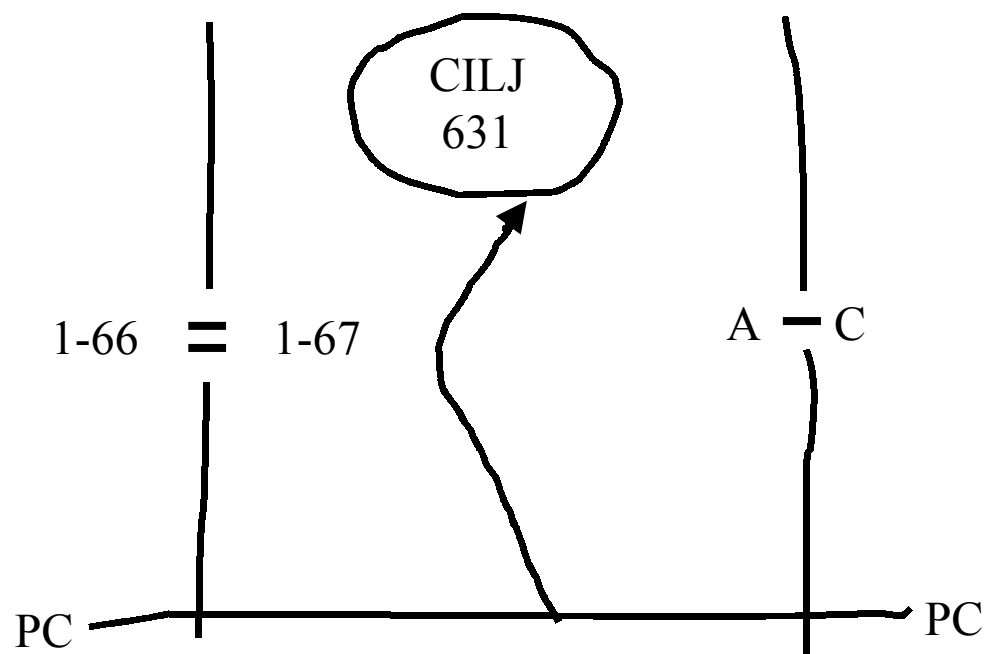
103. A satnija, 1. bojna, 67. pješačka pukovnija provest će noćni napad s zadaćom zauzimanja cilja 631. Mjera nadzora određena za A satniju je smjer napada.

Upotpunite grafiku ispod određivši mjeru nadzora za A satniju.



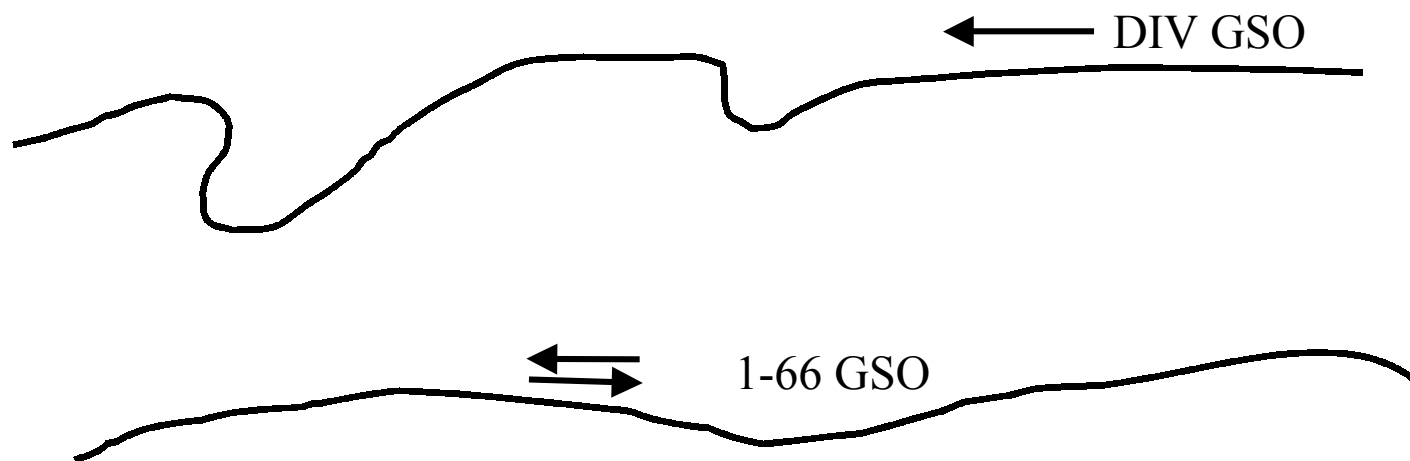
(NASTAVITE NA SLJEDEĆOJ STRANICI)

Odgovor na 103. pitanje



104. GLAVNI SMJER OPSKRBE (*MAIN SUPPLY ROUTE*). Glavni smjer opskrbe prikazuje se punom linijom. Strelice paralelne sa punom linijom predstavljaju dali se promet izvodi u jednom smjeru ili u oba. Skraćenica GSO /(*MSR*) prikazana je na divizijskom glavnom smjeru opskrbe. Ispod divizije je prikazano određenje postrojbe ili veličina u obliku skraćenice te glavni smjer opskrbe.

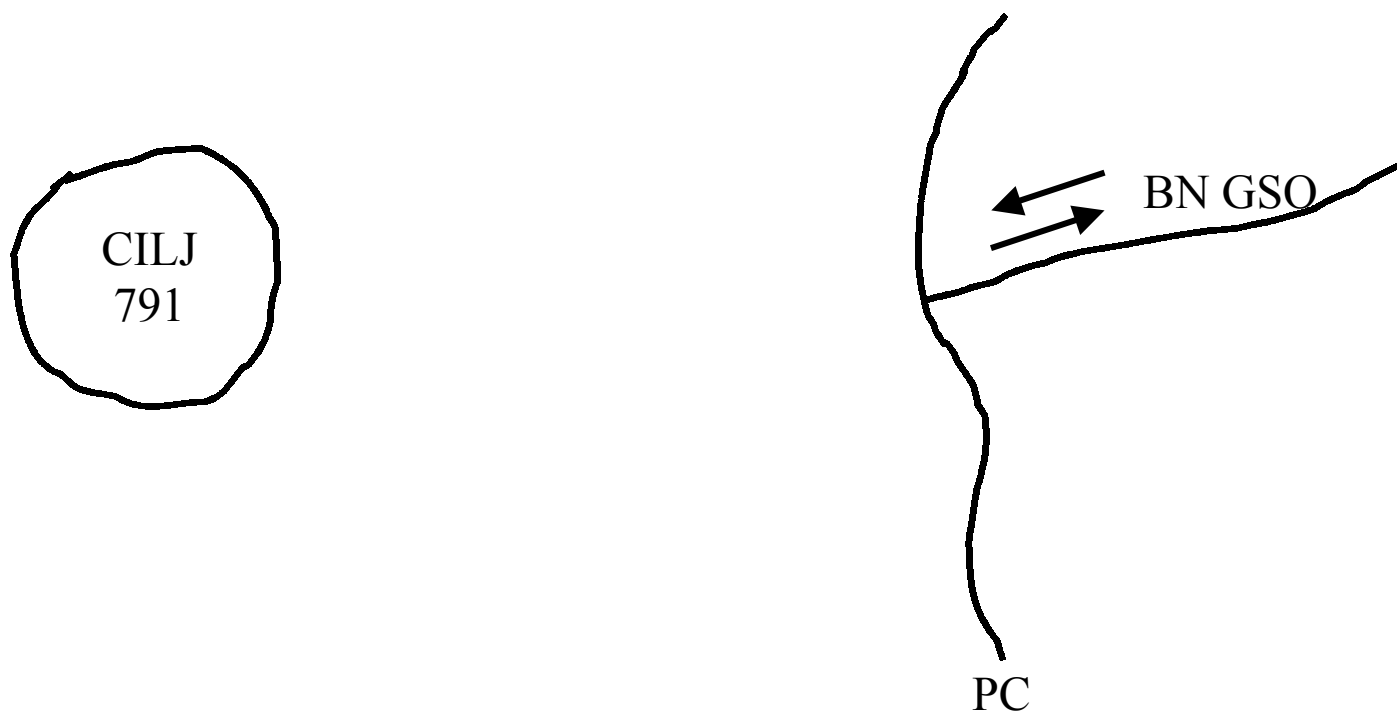
Primjeri:



(Divizijski glavni smjer opskrbe sposoban za održavanje prometa u jednom smjeru)

(GSO 1. bojne, 66. pješačke pukovnije sposoban je za održavanje prometa u oba smjera).

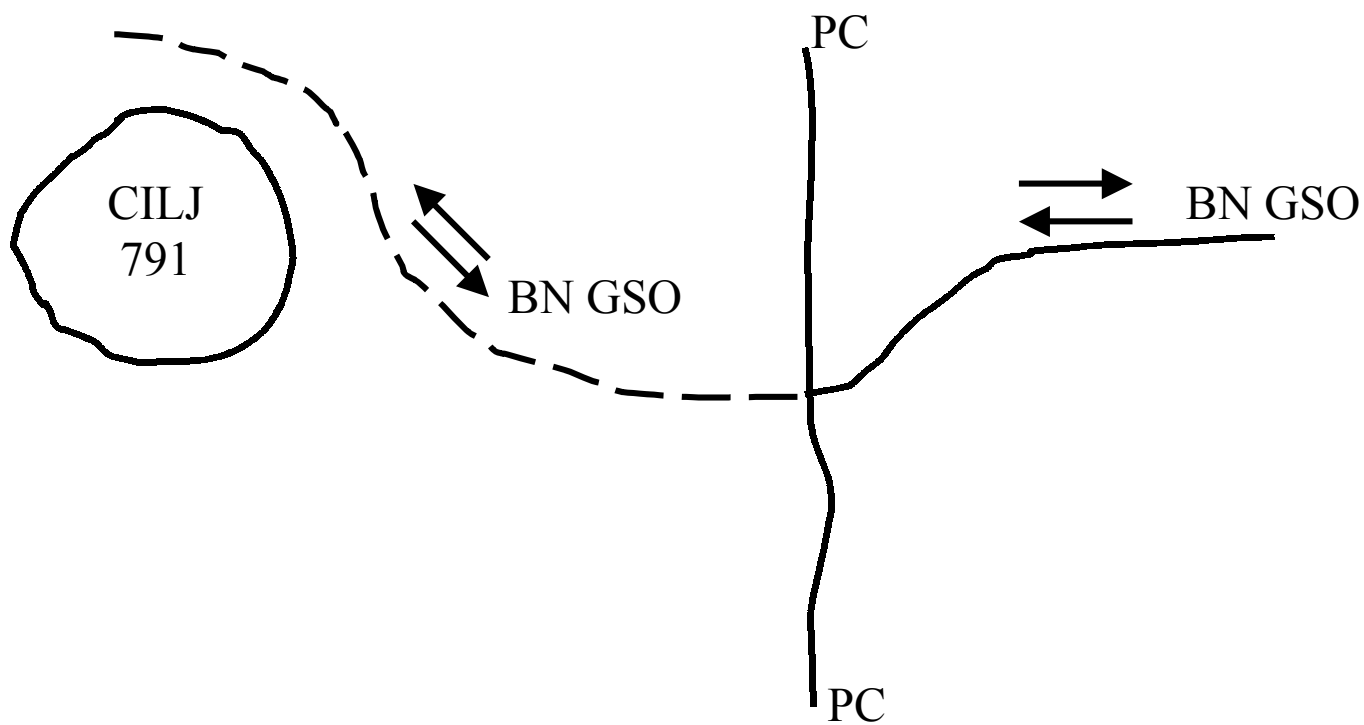
105. Planirani glavni smjer opskrbe prikazan je isprekidanom linijom. U obrani, GSO ukoliko je odobreno, može biti produžen do cilja, ili čak dalje koliko to dopuštaju mogućnosti borbenoservisne potpore odobrene za operaciju. GSO koji ide dalje od polazne crte prikazuje se kao planirana ruta. U potpunite grafiku ispod, koja prikazuje GSO bojne, sposoban za održavanje prometa u oba smjera te koji je produžen naprijed u blizinu cilja 791.



(NASTAVITE NA SLJEDEĆOJ STRANICI)

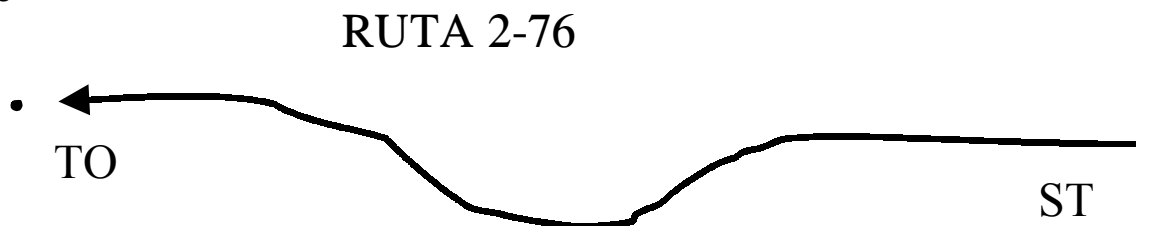
Odgovor na 105. pitanje

Prilikom kompletiranja prikazane grafike trebali biste nacrtati planirani glavni smjer opskrbe koji ide naprijed dalje od polazne crte te ga prikazati isprekidanom linijom, predstaviti veličinu postrojbe i postaviti strelice na GSO koje prikazuju mogućnosti održavanja prometa u oba smjera naprijed od polazne crte.



106. RUTA HODNJE (*ROUTE OF MARCH*). Rute hodnje su prikazane punom linijom sa strelicom i označene riječi “HODNJA” te određenjem postrojbe, slovom, brojem ili kodnim nazivom. Strelica prati specifičnu rutu.

Primjer:



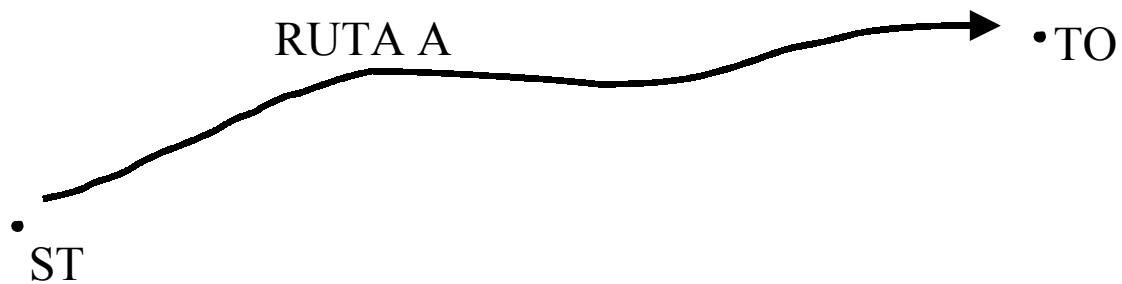
(Ruta 2-76)

NAPOMENA: STARTNA TOČKA I TOČKA ODVAJANJA ČESTO SE RABE U KONJUGACIJI SA RUTAMA. ONE SU PRIKAZANE KAO TAMNE TOČKICE OZNAČENE SKRAĆENICOM “ST” I “TO”. OBRATITE POZORNOST NA SLOVA, SVA SU VELIKA PISANA.

107. Prikažite rutu A sa startnom točkom i točkom odvajanja.

(NASTAVITE NA SLJEDEĆOJ STRANICI)

Odgovor na 107. pitanje

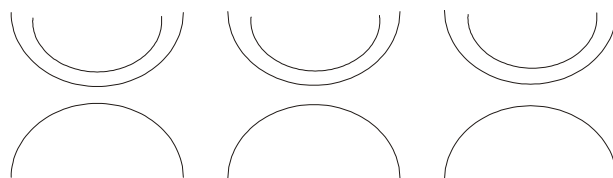


(Ruta A sa startnom točkom (SP) i točkom odvajanja (RP)).

NAPOMENA: RIJEČ RUTA JE VELIKIM SLOVIMA.

108. PREDNJE CRTE OBRANE (*FRONT LINES*). Prednja crta obrane prikazana je serijom _____ koji su _____ s neprijateljske strane. Planirana crta obrane prikazuje se _____ linijom.

Primjer:



Kada je dostupna samo jedna boja, neprijateljska prednja crta obrane prikazuje se duplom linijom.

Odgovor na 108. pitanje

Prednja crta obrane prikazana je serijom polukrugova koji su savijeni s neprijateljske strane. Planirana crta obrane prikazuje se isprekidanom linijom.

109. POLAZNA CRTA (*LINE OF DEPARTURE*). Polazna crta se rabi za koordinaciju napredovanja postrojbi u napadu.



P _____ c _____ se prikazuje _____ linijom i označena je sa skraćenicama _____ sa svake strane.

Odgovor na 109. pitanje

Polazna crta prikazuje se punom linijom i označena je sa skraćenicama PC (CD) sa svake strane.

110. POLAZNA CRTA JE LINIJA DODIRA (*LINE OF DEPARTURE IS THE LINE OF CONTACT*). Kada su postrojbe u dodiru sa neprijateljem, i pokrenut je napad iz trenutnih pozicija, izraz “Polazna crta je crta dodira”(PC/CD) rabi se na grafikama i postavljena je za predstavljanje rasporeda vlastitih snaga na prvoj crti obrane ili prednjeg kraja bojišnice PCB (FEBA). PC/CD označeno je serijom polukrugova u liniji dodira. Serija polukrugova označena je na svakom kraju skraćenicom “PC/CD”.

Prikažite PC/CD.

(NASTAVITE NA SLJEDEĆOJ STRANICI)

Odgovor na 110. pitanje.

PC/CD



PC/CD

(Polazna crta je crta dodira)

111. NADZORNA TOČKA (*CHECK POINT*). Nadzorna točka je lako prepoznatljiva lokacija na zemljovidu i zemljištu određena kao preporučena točka za izvješćivanje lokacije vlastitih postrojbi. Neprijateljske lokacije ne izvješćuju se putem nadzornih točki. NT prikazana je kvadratom sa trokutom postavljenim vrhom prema točnoj lokaciji na određenom terenskom dijelu sa brojem, slovom ili kodnim imenom postavljenim unutar simbola.

Primjeri:

(NT broj 45)



(NT BRAVO)



(NT CRVENO)

112. Nadzorna točka sastoji se od _____ na lako prepoznatljivom zemljištu te _____, _____ ili _____ unutar _____ za identifikaciju.

(NASTAVITE NA SLJEDEĆOJ STRANICI)


Odgovor na 112. pitanje

Točka provjere sastoji se od zatvorenog kruga na lako prepoznatljivom zemljištu te broja, slova ili kodnog naziva unutar kruga za identifikaciju.

113. FAZNA CRTA (*PHASE LINE*). Fazna crta je određena za nadzor i koordinaciju postrojbi; trebala bi biti produžena preko cijele zone ili sektora, radije uzduž upadljivog oblika zemljišta ili objekata koji su lako prepoznatljivi na zemljištu ili na zemljovidu.

Fazna crta je prikazana punom linijom označenom sa svake strane skraćenicom FC (PL) te kodnim imenom, slovom ili brojem za identifikaciju.

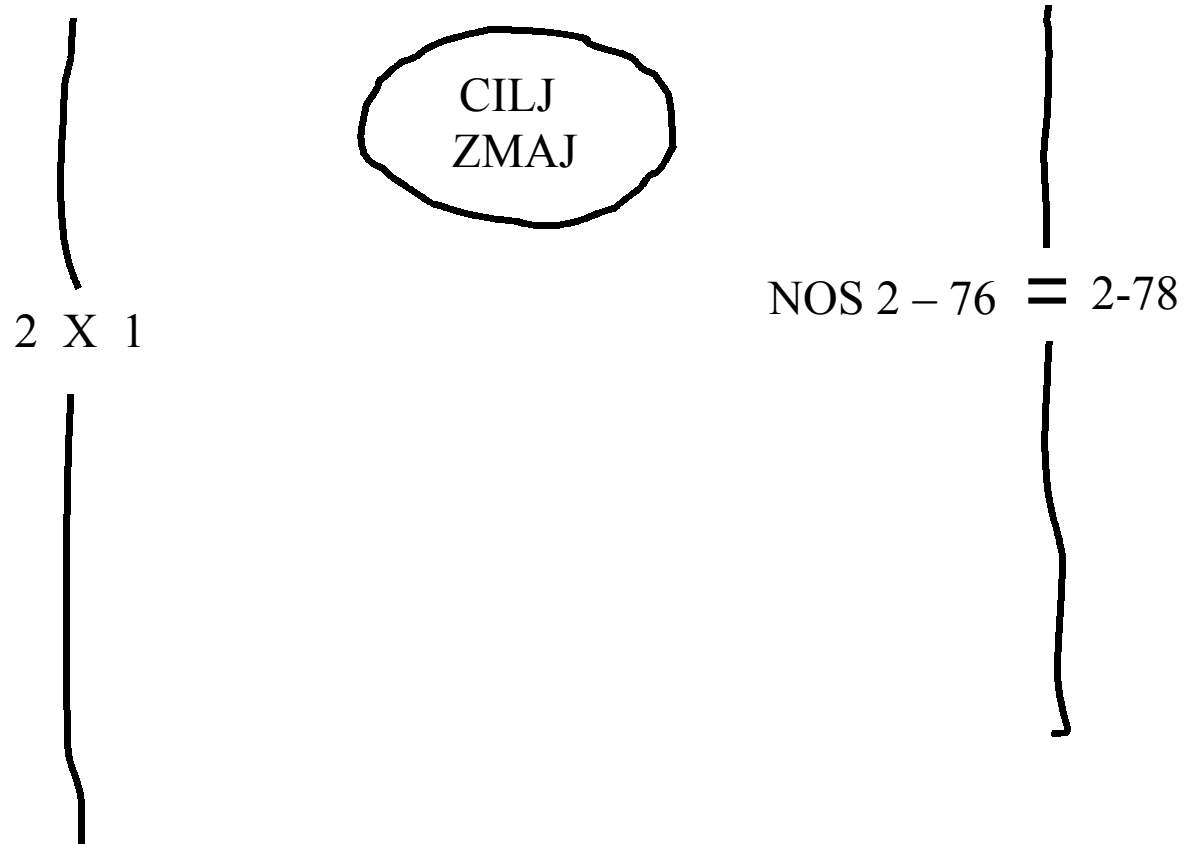
Primjeri:



(Fazne linije)

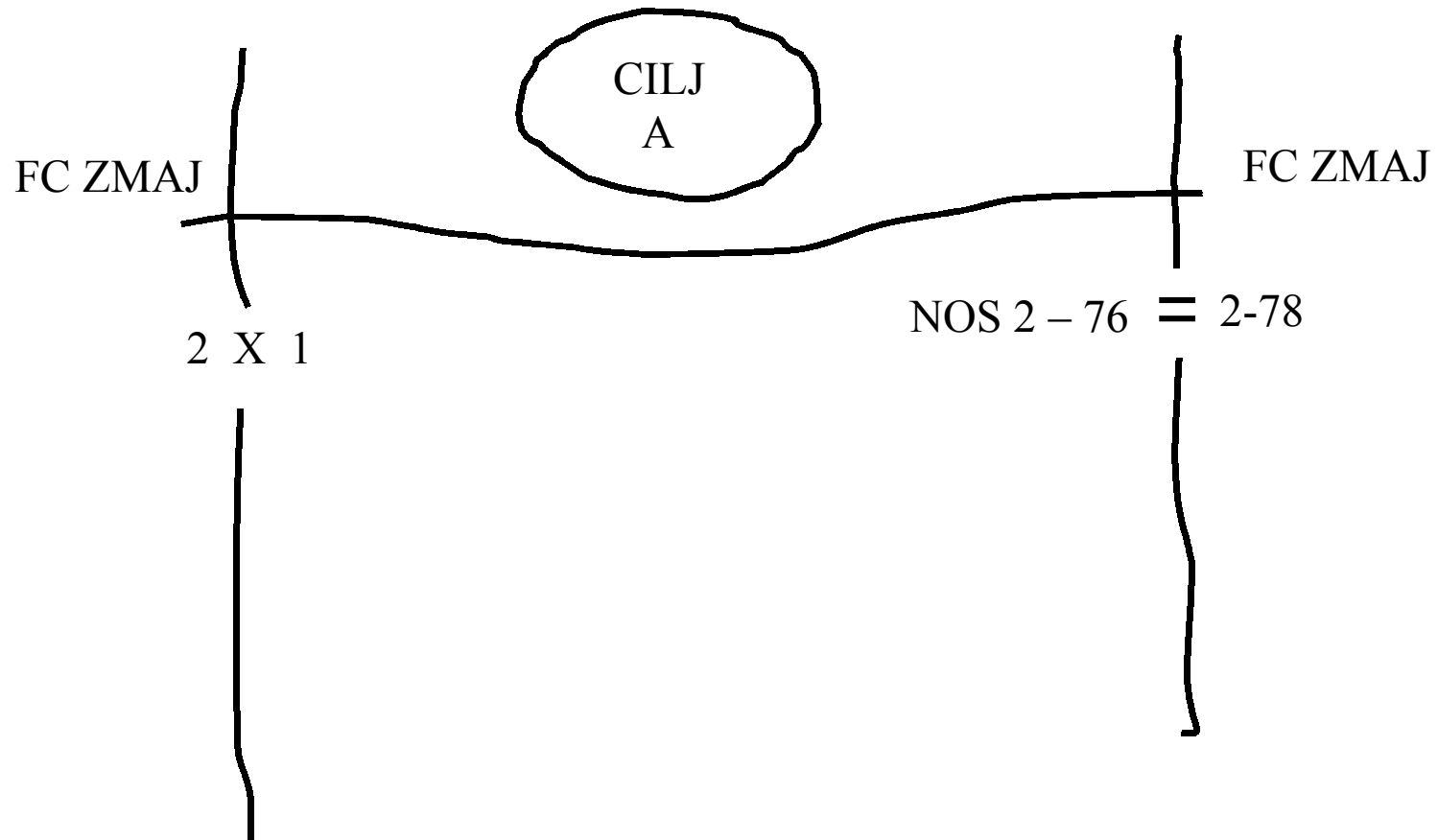
NAPOMENA: SVE RIJEČI I SKRAĆENICE ISPISANE SU VELIKIM SLOVIMA

114. Prikažite faznu crtu ZMAJ kao nadzornu mjeru koju rabi NOS 2-76.



(NASTAVITE NA SLJEDEĆOJ STRANICI)

Odgovor na 114. pitanje

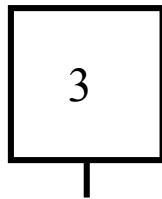


NAPOMENA: FAZNA CRTA KOJU STE PRIKAZALI TREBALA BI BITI PRODUŽENA PREKO CIJELE ZONE DJELOVANJA NOS-a 2-76 POGLEDAJTE DA SU SLOVA VELIKA.

115. KONTAKTNA TOČKA (*CONTACT POINT*). Kontaktna točka je lokacija gdje dvije ili više postrojbi trebaju uspostaviti fizički kontakt. Kontaktna točka je prikazana kao kvadrat sa brojem za identifikaciju postavljen unutra te crticom iz središta simbola čiji kraj predstavlja točnu lokaciju simbola.

Prikažite kontaktnu točku broj 3

Odgovor na 115. pitanje.




(Kontaktna točka broj 3)

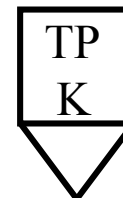
116. TOČKA PROLAZA (*PASSAGE POINT*). Točka prolaza je lokacija na kojoj postrojba koja prolazi kroz redove druge postrojbe koja je u dodiru s neprijateljem ili na lokaciji gdje se postrojba povlači kroz drugu postrojbu zauzimajući pozadinske položaje. Točka prolaza je prikazana na isti način kao i točka provjere osim što se ovdje unutar simbola nalazi skraćenica TP (PP) te broj ili slovo za identifikaciju postavljen unutar ili ispod “TP”.

Prikažite točku prolaza broj 7 i točku prolaza “K”.

Odgovor na 116. pitanje



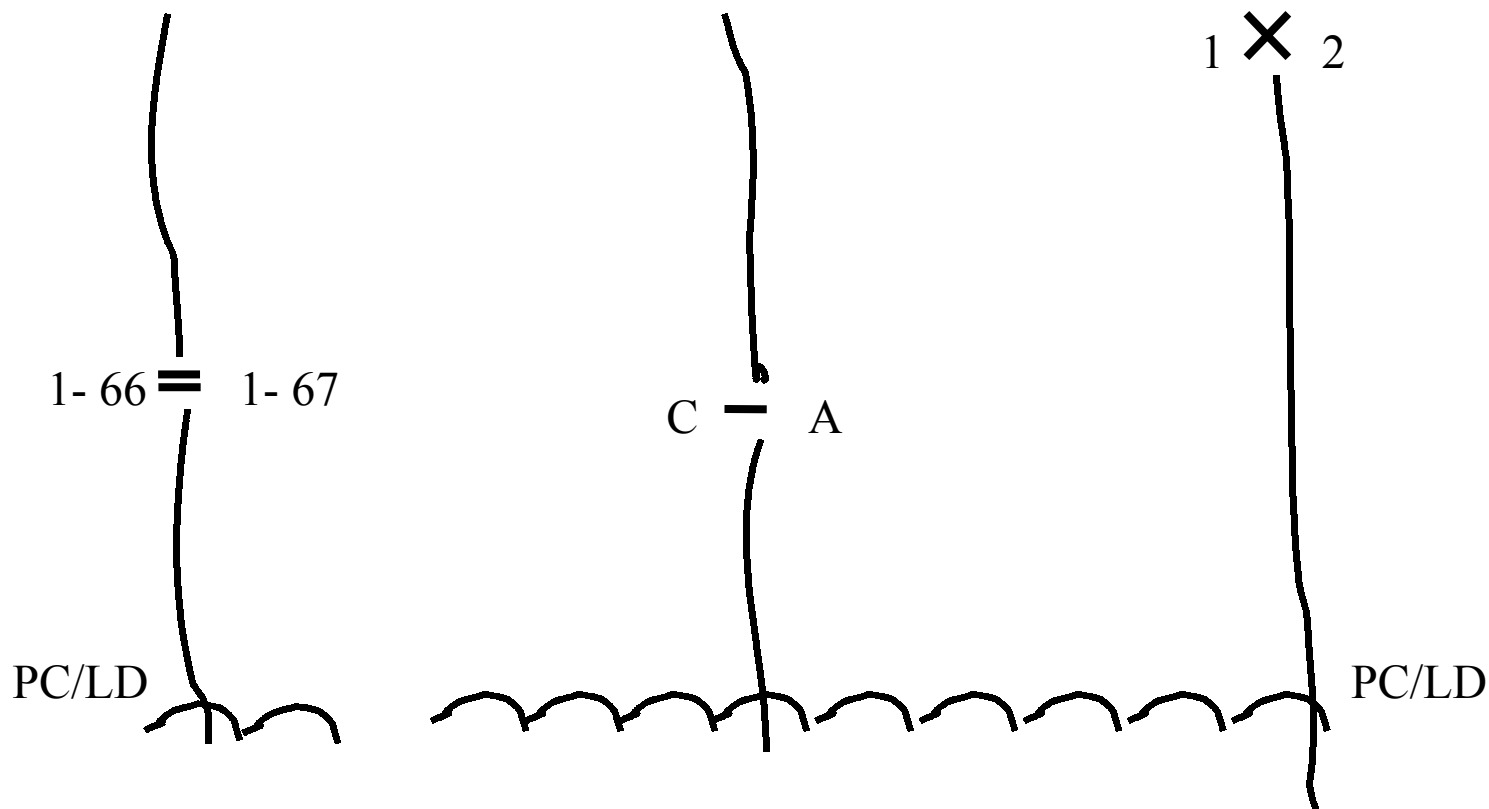
(Točka prolaza broj 7)



(Točka prolaza "K")

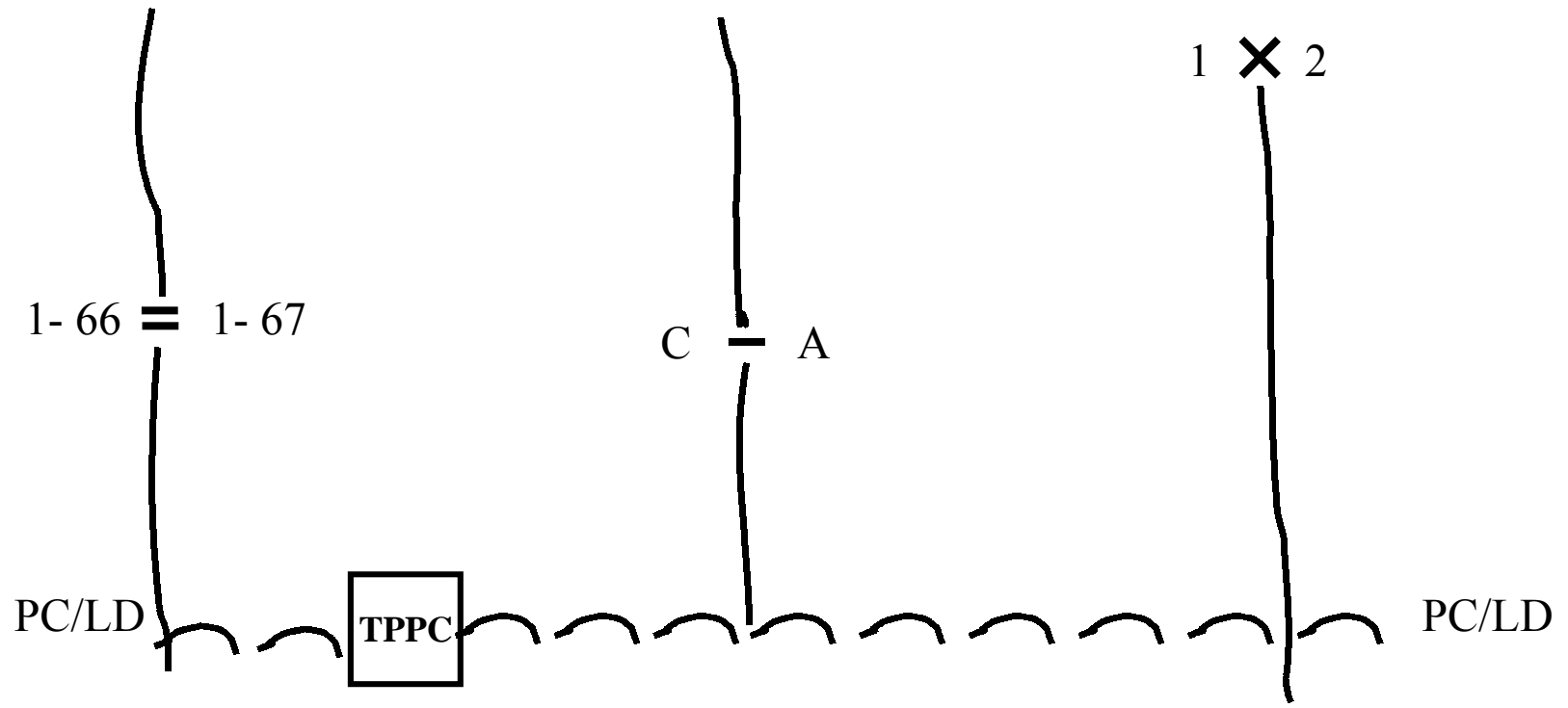
NAPOMENA: "TP" JE VELIKIM SLOVIMA.

117. TOČKA PROLAZA NA POLAZNOJ CRTI (*POINT OF DEPARTURE*). Točka prolaza na polaznoj crti je specifična lokacija gdje postrojba prelazi polaznu crtu. Najčešće se koristi za noćne napade. Točka prolaza prikazana je kvadratom sa skraćenicom TPPC (“PD”) te brojem ili slovom za identifikaciju, postavljenu unutar ili ispod “PD”.

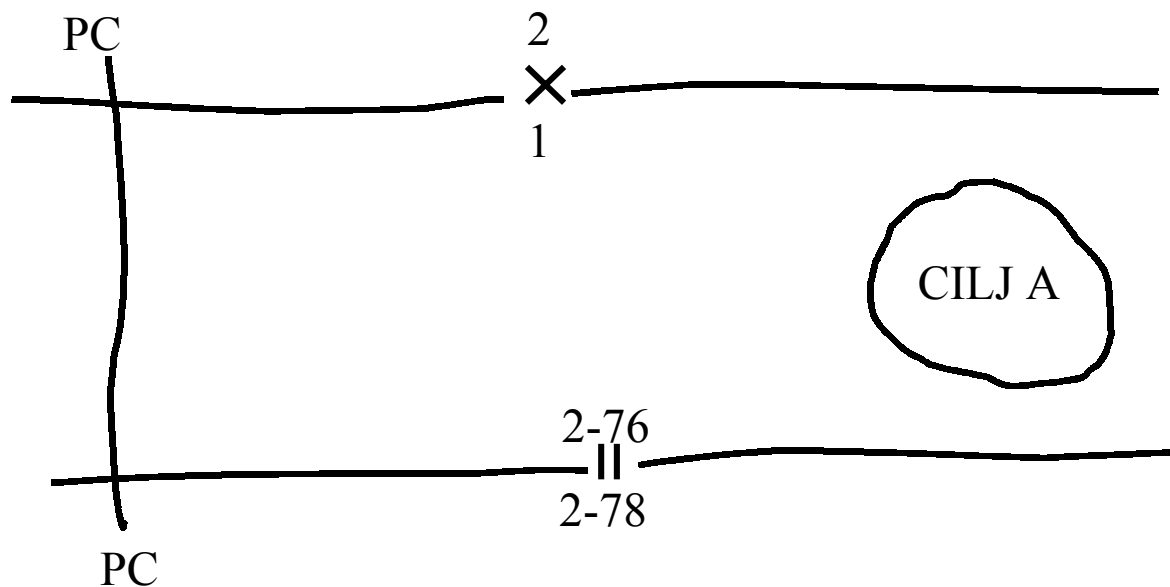


Prikažite točku prolaza polazne crte broj 5, na polaznoj crti / liniji dodira PC/LD C satnije, 1. bojne, 67. pješačke pukovnije.

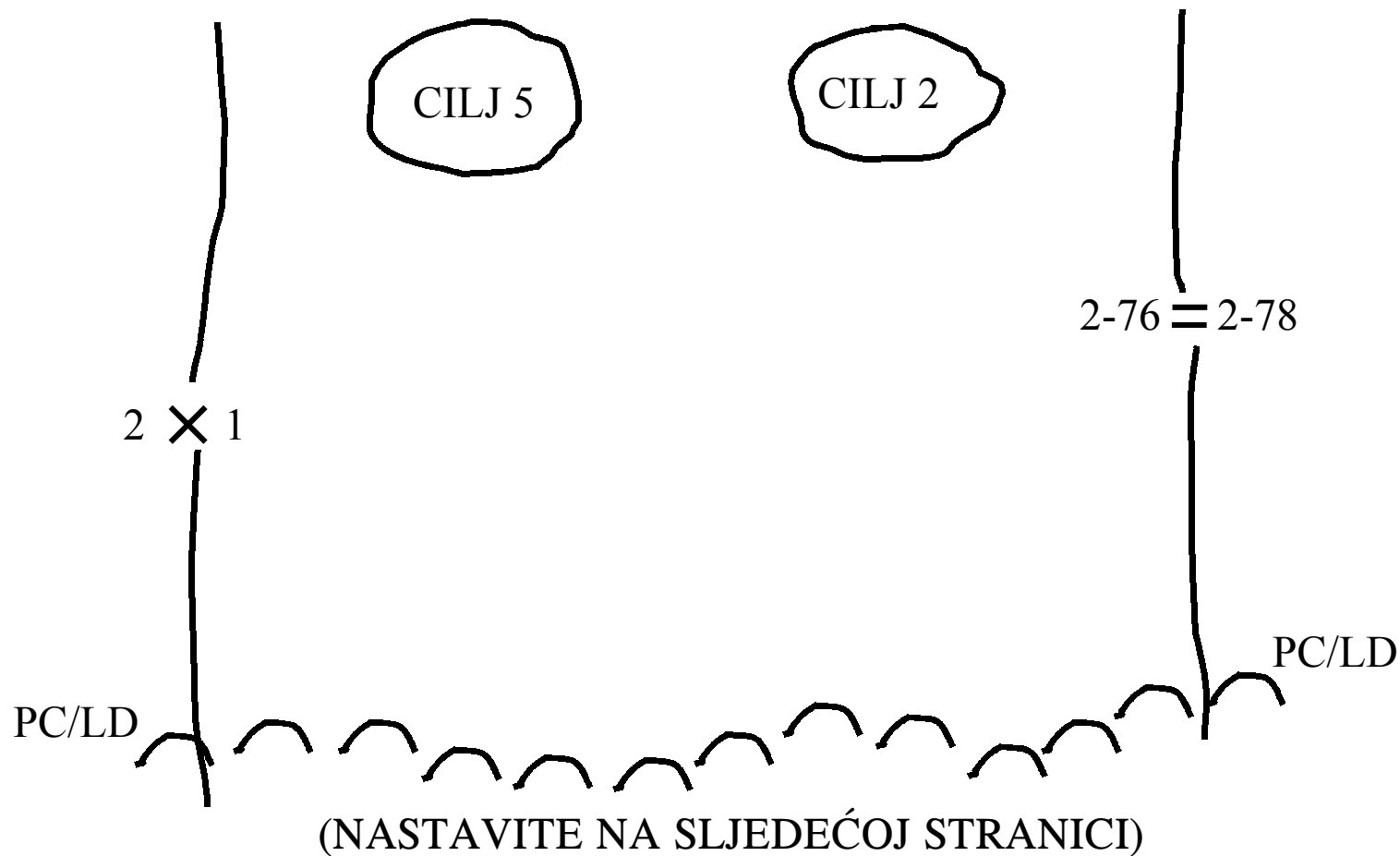
Odgovor na 117. pitanje



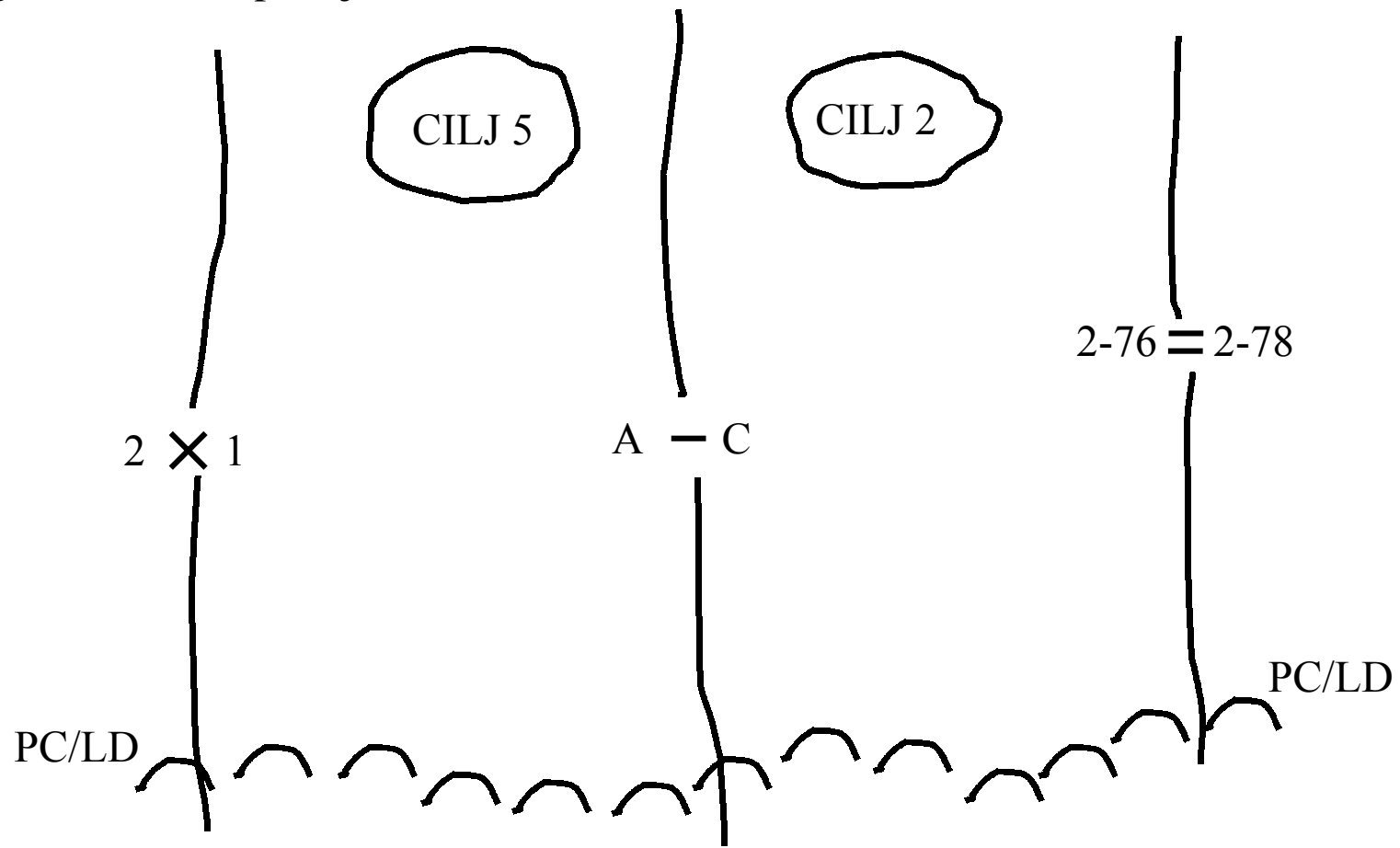
118. Simboli postrojbi i instalacija kombinirani s ciljevima, granicama i ostalim nadzornim mjerama omogućavaju vam brzo i točno prikazivanje shema manevra. Okomite granice u obrani služe za uspostavljanje zona djelovanja te nadzora paljbe i manevra susjednih postrojbi. U napadu, okomite granice trebale bi biti produžene naprijed iza cilja najmanje u dubinu potrebnu za koordinaciju paljbi u zauzimanju i konsolidaciji na cilju. Trebale bi biti povučene dovoljno iza da osiguraju potreban prostor za snage, uključujući elemente, instalacije ili djelovanja borbenoservisne potpore.



119. A i C satnije, 2-76 mehanizirane pukovnije imaju svaka zasebni cilj u zoni djelovanja bojni, prikažite okomite granice kao nadzorne mjere za satnije u napadu.



Odgovor na 119. pitanje

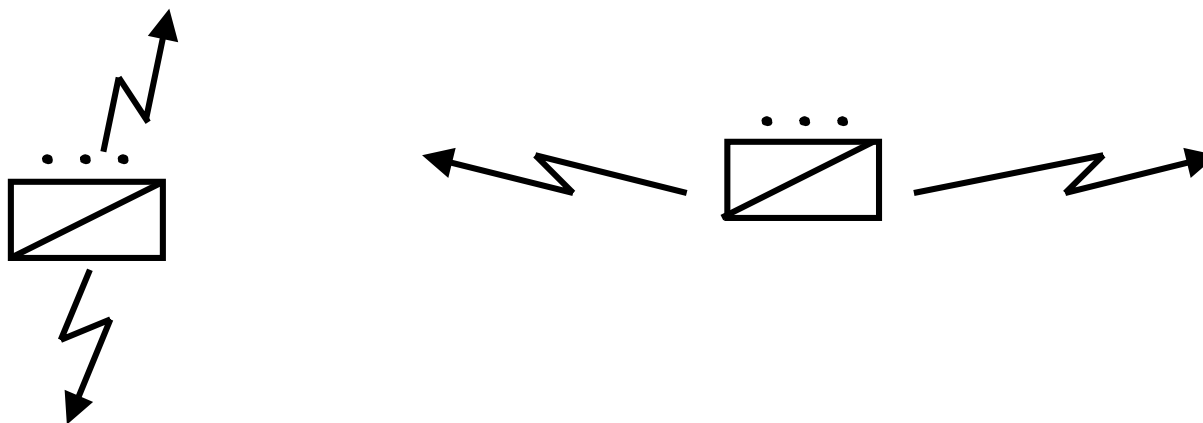


120. Pozadinsko produženje okomitih granica predstavlja pozadinsko _____ teritorijalnih od _____ postrojbe. Pozadinske granice na razini bojne obično nisu prikazane. Međutim, pozadinske granice mogu biti prikazane ukoliko osiguranje pozadinskog područja mora biti strogo definirano.

Odgovor na 120. pitanje

Pozadinsko produženje okomitih granica predstavlja pozadinsko ograničenje teritorijalnih odgovornosti postrojbe.

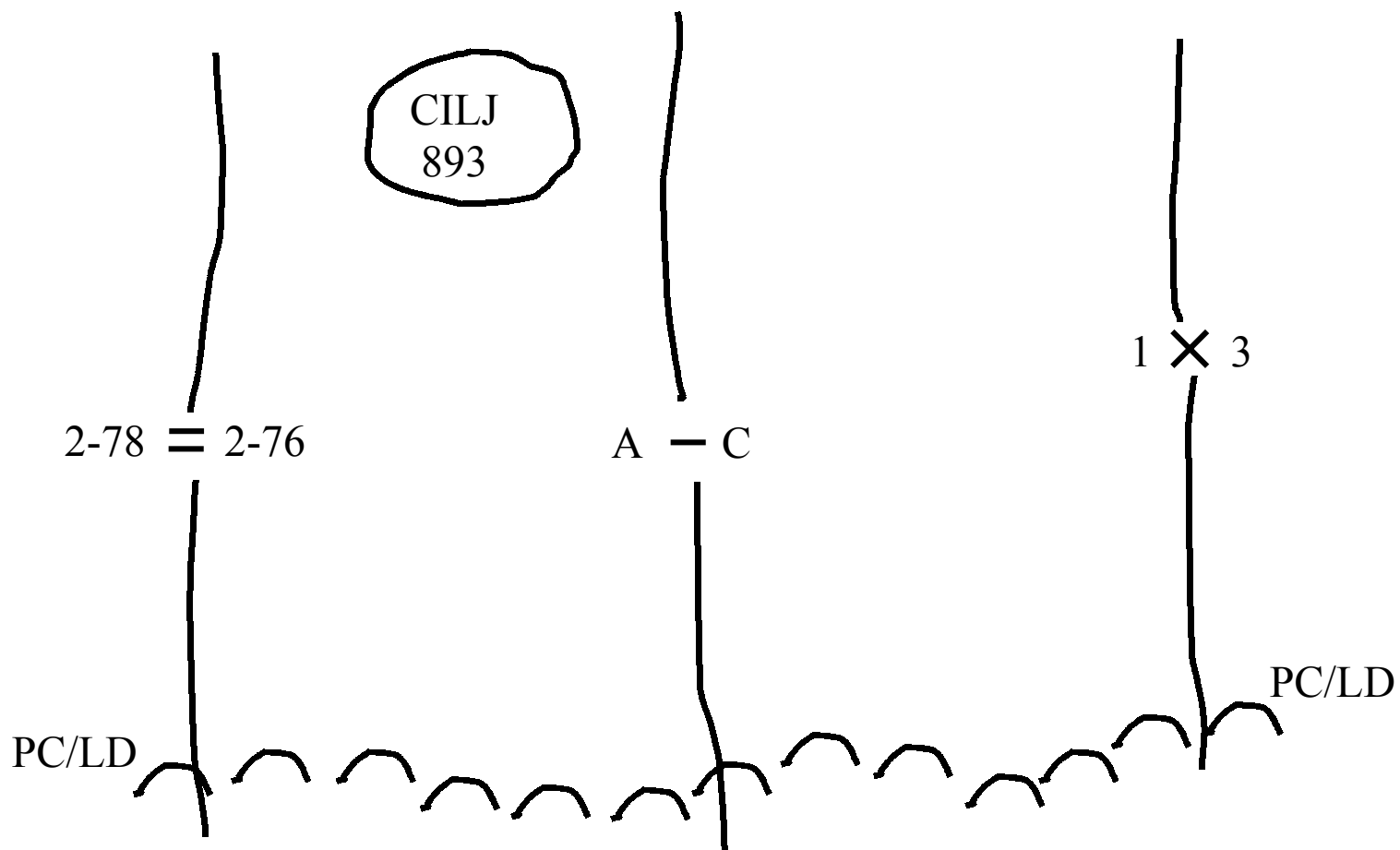
121. POSTROJBE ODREĐENE ZA ZADAĆE OSIGURANJA (*UNITS ASSIGNED SECURITY MISSIONS*). Postrojbe kojima su određene zadaće osiguranja prikazane su grafički simbolom postrojbe sa strelicama munje. Strelice munja predstavljaju zemljište gdje će postrojba djelovati i veličinu njihove zadaće. Simbol je prikazan tako da se lako može pročitati kada je karta usjeverena u normalnoj poziciji.



(Prikaz postrojbi kojima je dodijeljena zadaća osiguranja)

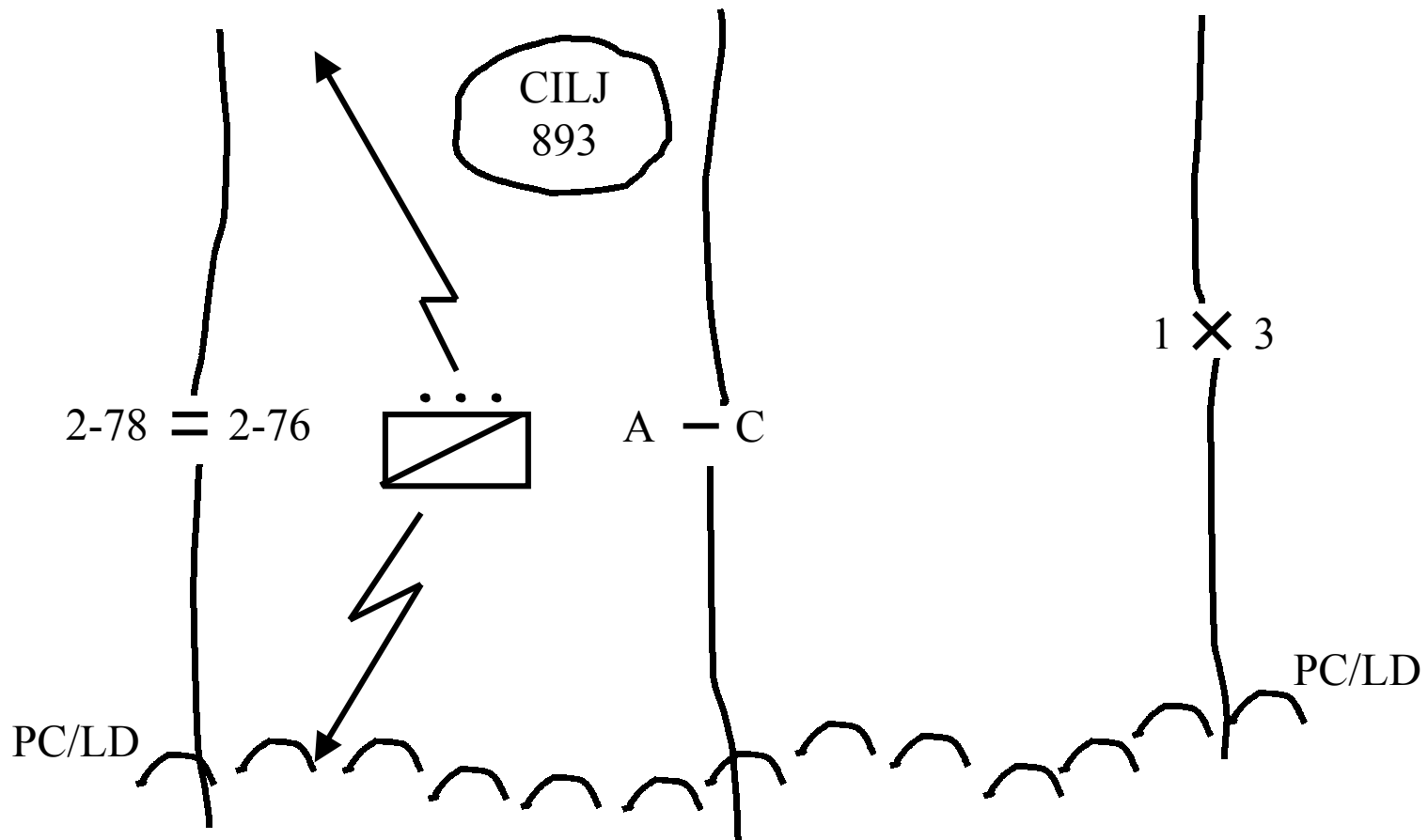
Ovo je postupak za prikazivanje postrojbi koje provode zadaće osiguranja, međutim nije predstavljeno koja je specifična vrsta zadaće osiguranja npr; prikrivanje ili čuvanje. Specifična zadaća postrojbe kojoj je određena zadaća osiguranja mora biti uključena u usmenu ili pismenu zapovijed kao i instrukcije koje se tiču samog provođenja zadaće.

122. Prikažite zadaću osiguranja za izvidnički vod, 2-76 (mehanizirane) duž lijevog boka bojne, od PC/LD do cilja 893.



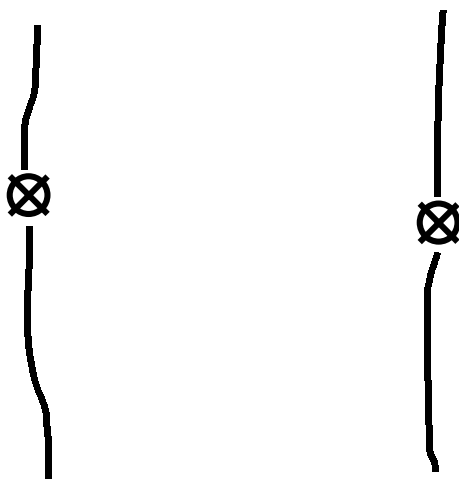
(NASTAVITE NA SLJEDEĆOJ STRANICI)

Odgovor na 122. pitanje



123. KOORDINACIJSKE TOČKE (COORDINATING POINTS). Koordinacijske točke prikazuju se na obrambenim granicama za prikazivanje specifičnih točki za koordinaciju paljbe i manevra između susjednih postrojbi. Koordinacijske točke trebale bi se nalaziti na terenskoj točki lako prepoznatljivom na zemljovidu i zemljištu! Koordinacijska točka prikazana je crtanjem kruga na određenoj terenskoj točki te postavljanjem "X" u središte.

Primjer:



(Koordinacijske točke)

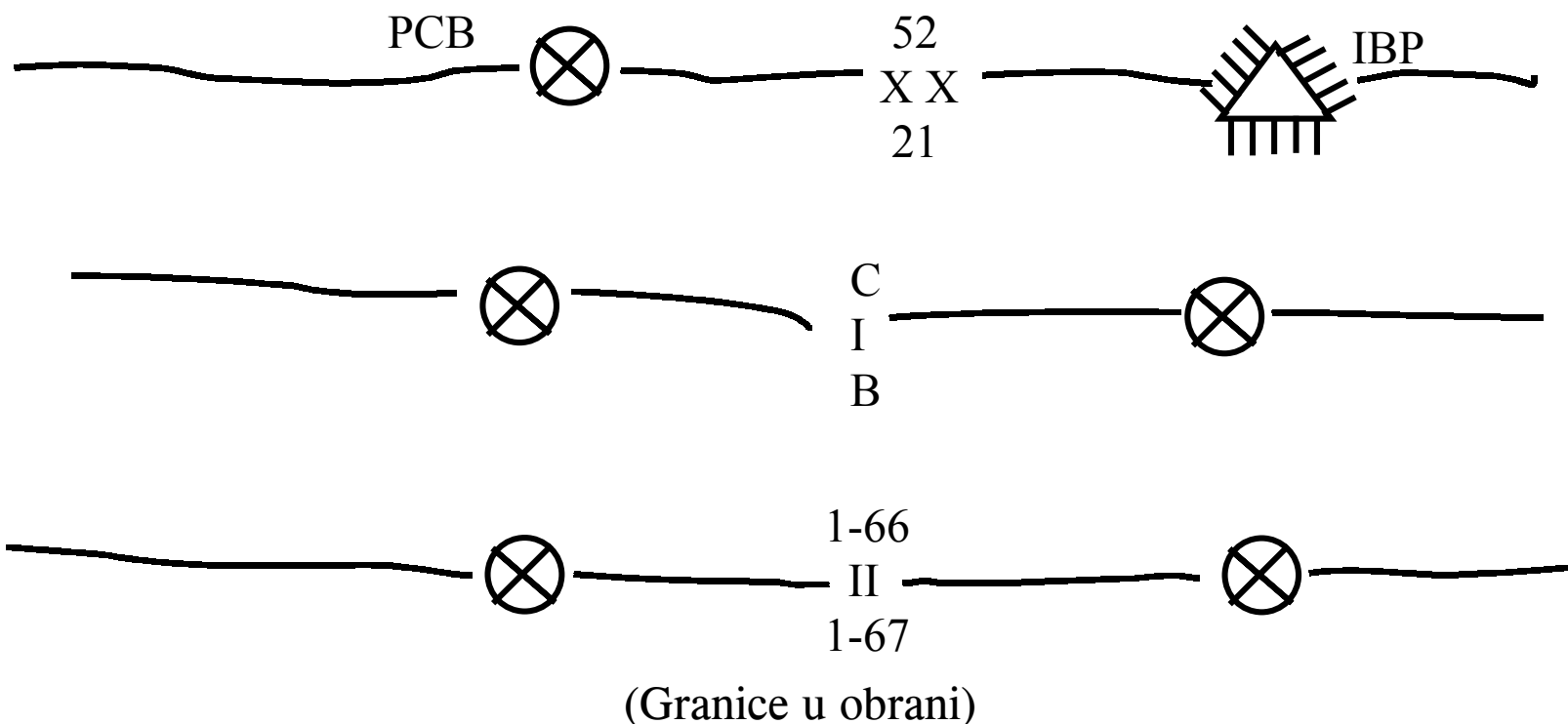
124. Koordinacijske točke prikazane su _____ granicama za predstavljanje specifičnih točaka za koordinaciju _____ i _____ između susjednih postrojbi.

(NASTAVITE NA SLJEDEĆOJ STRANICI)

Odgovor na 124. pitanje

Koordinacijske točke prikazane su na obrambenim granicama za predstavljanje specifičnih točaka za koordinaciju manevra i paljbe između susjednih postrojbi.

125. Koordinacijske točke su prikazane kada god granica prelazi prednju crtu bojišnice PCB (Forward Edge of the Battle Area (FEBA) te bi se trebale prikazivati kada granica prelazi istureni borbeni položaj IBP (Combat Outpoust (COP)). One su označene skraćenicama “PCB”, “IBP” od toga koja je više primjenjiva.



126. Koordinacijske točke označene su skraćenicama _____ , _____ zavisno od situacije koja je više primjenjiva.

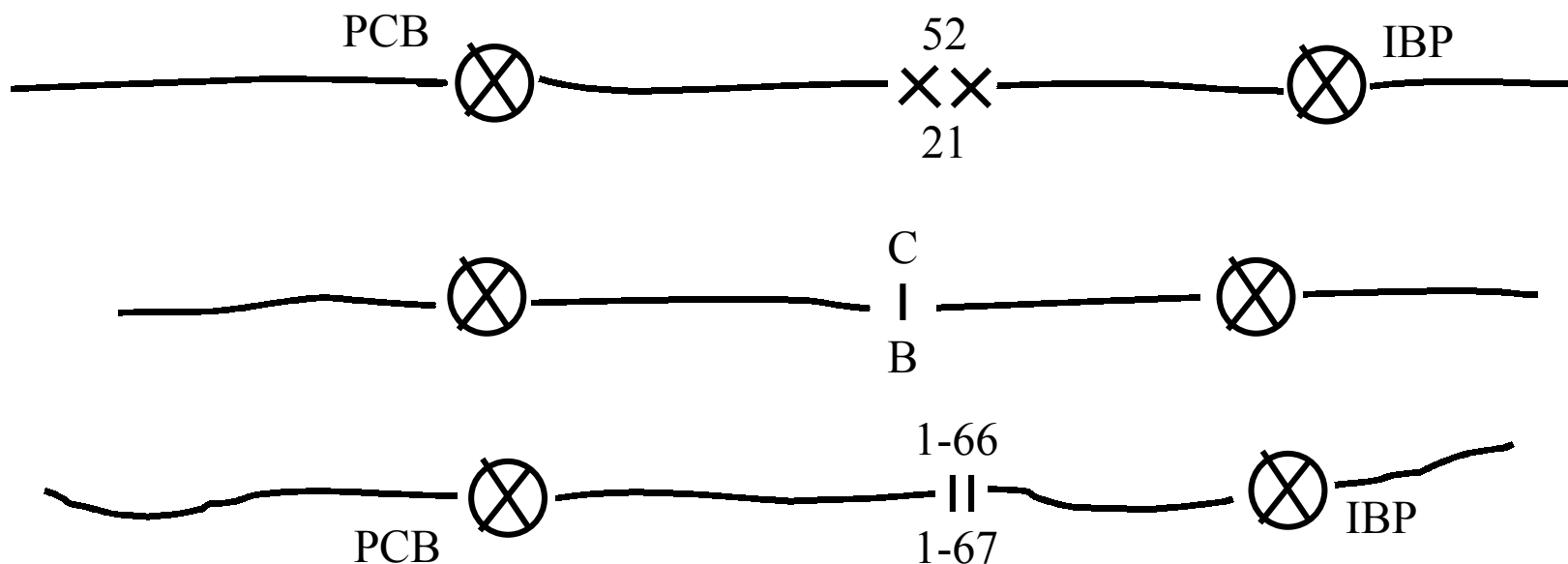
(NASTAVITE NA SLJEDEĆOJ STRANICI)

Odgovor na 126. pitanje

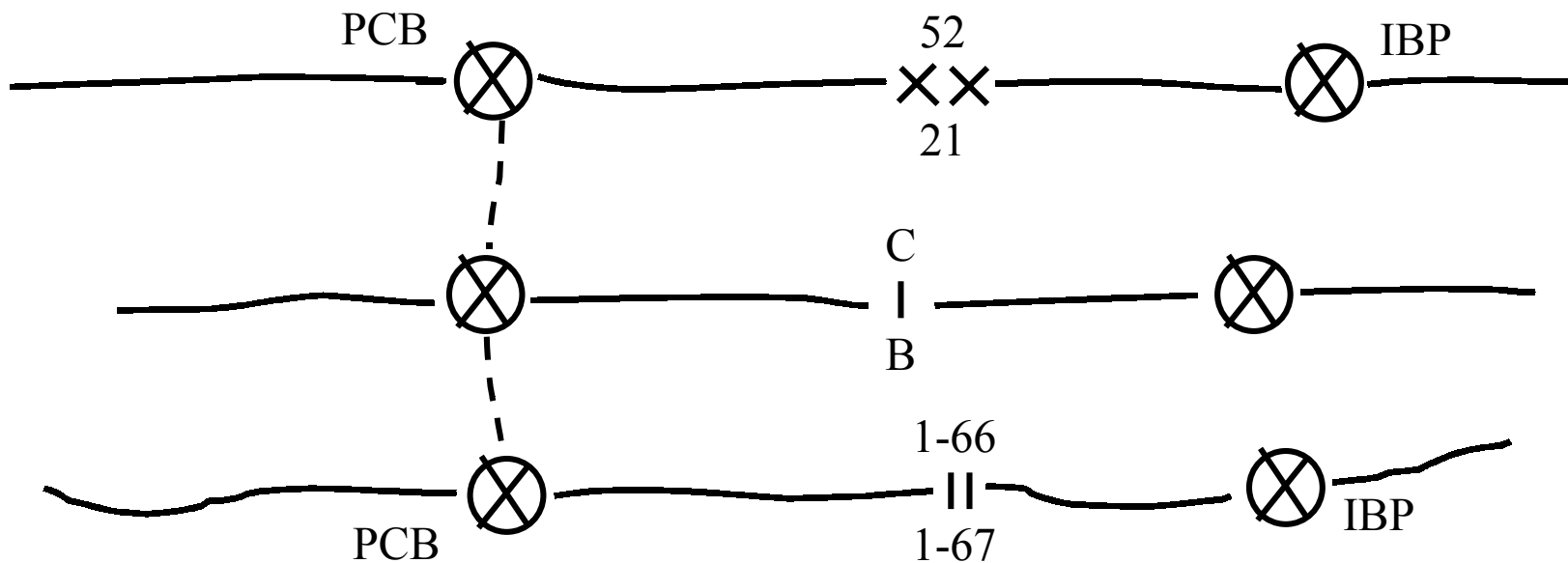
Koordinacijske točke označene su skraćenicama PCB , IBP zavisno od situacije koja je više primjenjiva.

127. Lokacija koordinacijskih točaka na obrambenim granicama prikazuje glavni smjer PCB (FEBA) ili IBP (COP) kako ih je zamislio zapovjednik koji ih je ujedno i odredio. PCB koja treba biti zaposjednuta i prikazana je isprekidanom linijom te se proteže između koordinacijskih točaka predstavlja specifični smjer PCB. Specifični smjer PCB trenutno zaposjednut prikazan je punom linijom koja se proteže između koordinacijskih točaka.

128. Prikažite specifični smjer PCB koji treba biti zauzet od 1. bojne, 66. pješačke pukovnije.



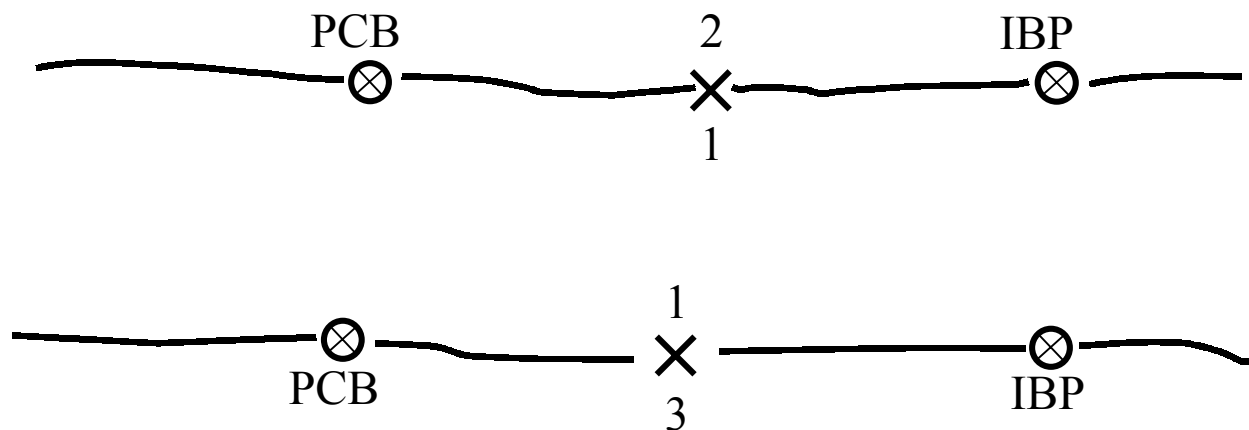
Odgovor na 128. pitanje



129. U obrani, produžeci granica naprijed i u pozadinu PCB predstavlja ograničenje teritorijalne odgovornosti postrojbe. Bočne granice protežu se između brigada koje se nalaze naprijed do:

- dometa izravne potpore topničke paljbe
- dometa vidljivosti motrilišta
- GRANICE KOJA JE VEĆA

Primjer:



(Produžeci granica brigada)

NAPOMENA: ODREĐENJE VELIČINE I POSTROJBE NA BOČNIM OBRAMBENIM GRANICAMA OZNAČENO JE NA ISTI NAČIN KAO NAPADAJNE BOČNE GRANICE.

130. Obrambene bočne granice između isturenih brigada raširene su naprijed do dometa izravne potpore _____ paljbe ili ograničenja motrenja, zavisno koja je od ove dvije _____.

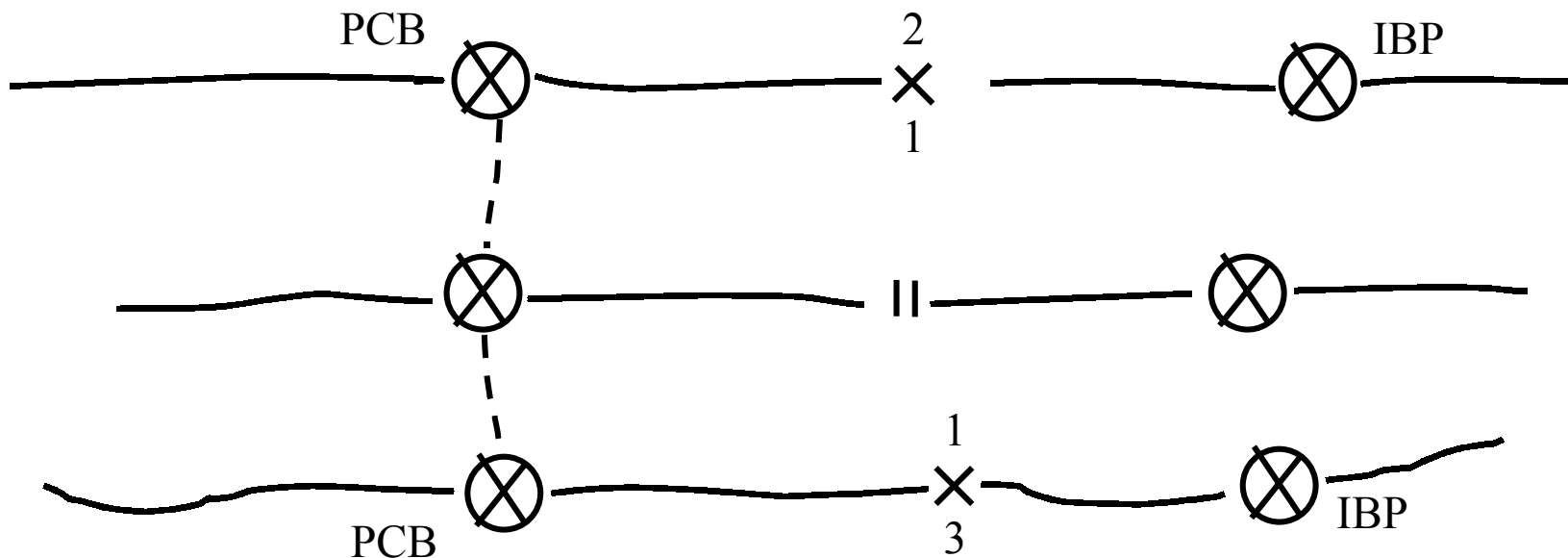
(NASTAVITE NA SLJEDEĆOJ STRANICI)

Odgovor na 130. pitanje

Obrambene bočne granice između isturenih brigada raširene su naprijed do dometa izravne potpore topničke paljbe ili ograničenja motrenja, zavisno od toga koja je od ove dvije veća.

131. Kada isturene bojne osiguravaju snage za IBP (COP), bočne granice između bojna protežu se od PCB (FEBA) naprijed kroz IBP (COP) do bilo kakve udaljenosti koju zapovjednik brigade poželi postaviti isturenim bojnama odgovornima za osiguranje, (obično do učinkovitih udaljenosti koje se postižu sa IBP (COP)).

Primjer:



(Produžeci granica bojna prikazuju da isturene bojne osiguravaju snage za IBP).

132. Kada se bočne granice između bojna protežu od PCB naprijed kroz IBP , tada time predstavljamo da _____ bojne opskrbljuju snage na _____.

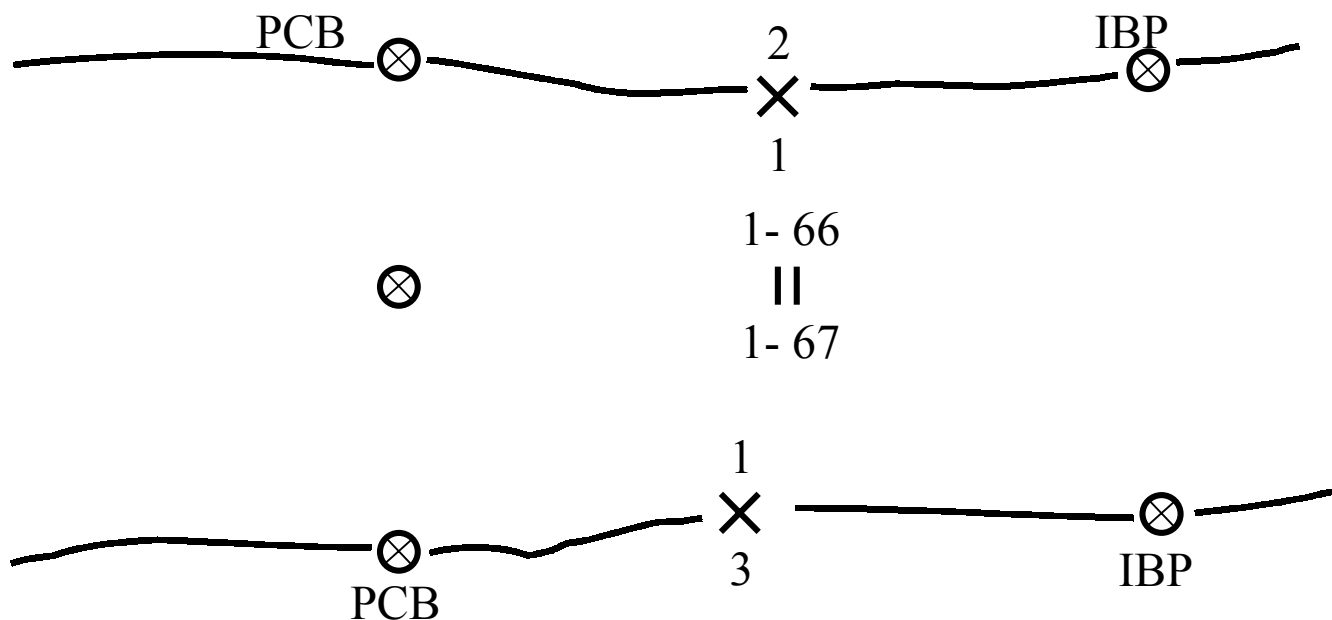
(NASTAVITE NA SLJEDEĆOJ STRANICI)

Odgovor na 132. pitanje

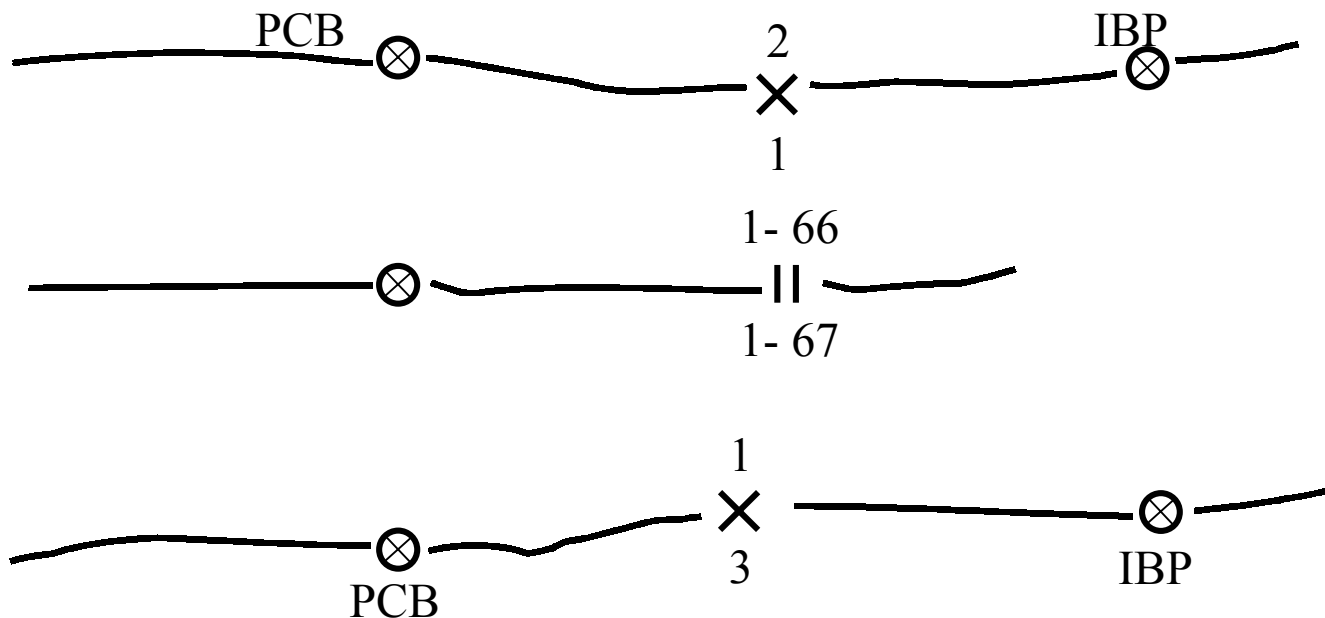
Kada se bočne granice između bojna protežu od PCB naprijed kroz IBP , tada time predstavljamo da isturene bojne opskrbljuju snage na IBP.

133. Iako isturene bojne obično osiguravaju snage za IBP, rijetke situacije mogu uvjetovati da isturene bojne nisu korištene za osiguranje IBP. Ukoliko bilo koja druga postrojba osigurava COP, granica između isturenih bojni je kraća od IBP.

134. Upotpunite grafike prikazane dolje prikazujući isturene bojne koje ne zaposjedaju IBP.



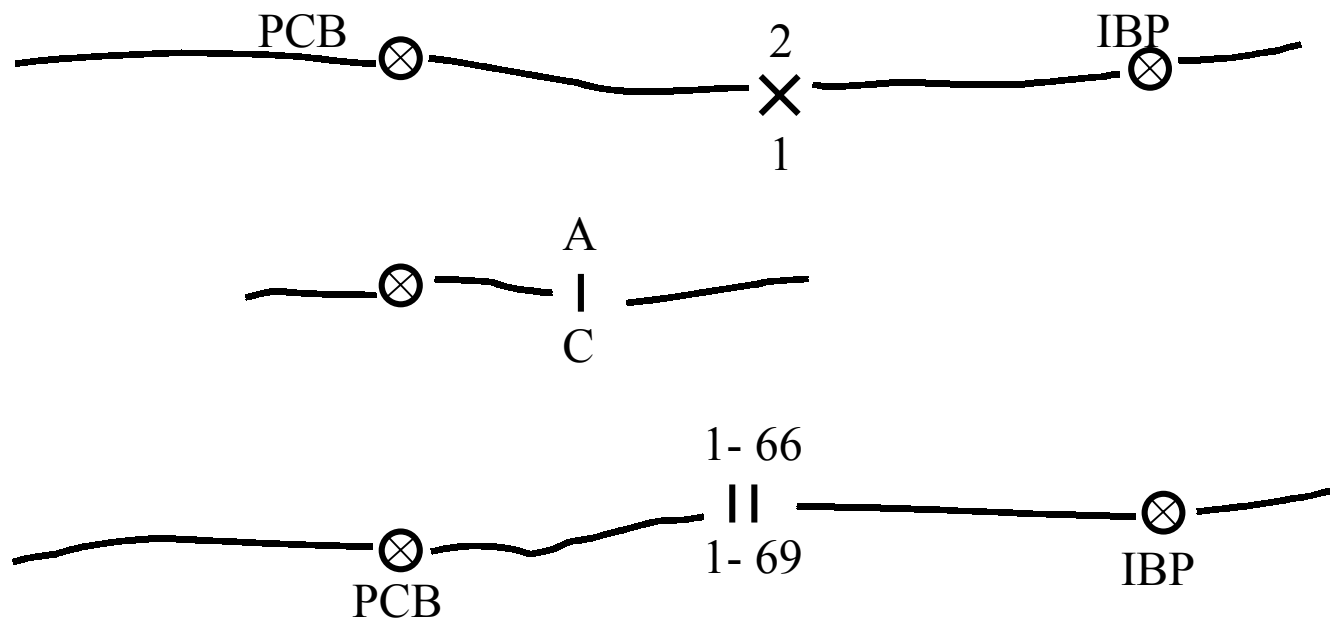
Odgovor na 134. pitanje



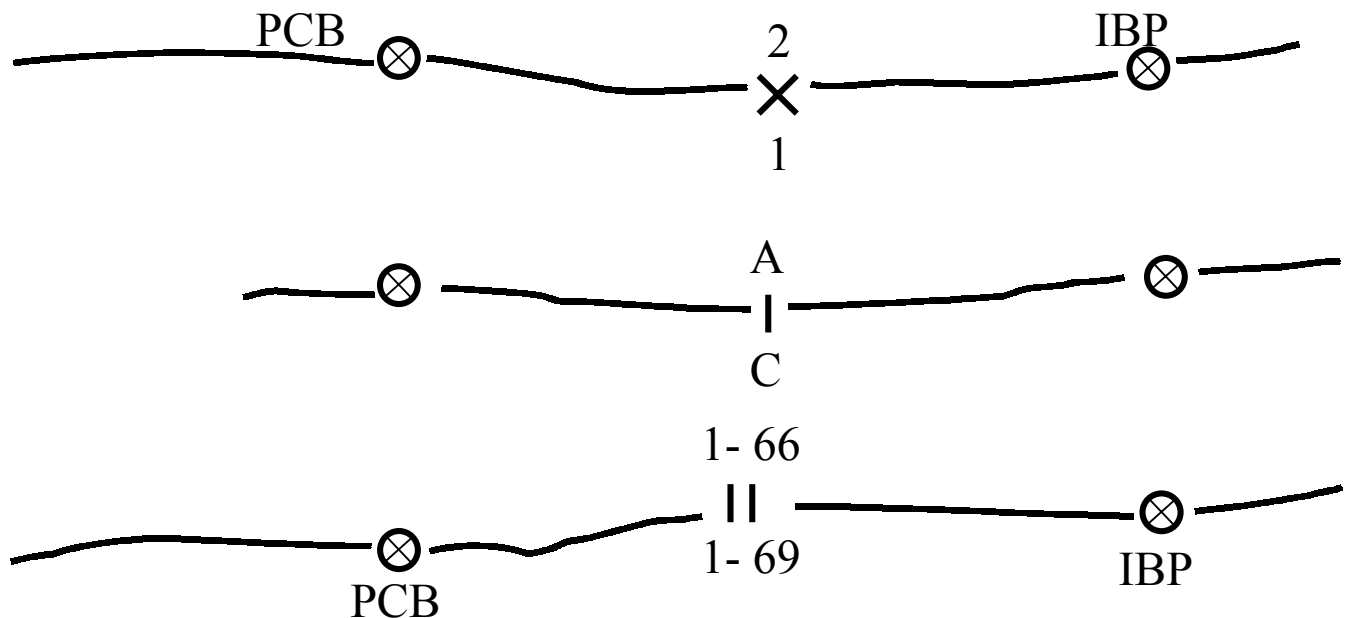
Da biste prikazali da isturene bojne ne zaposjedaju IBP (COP), granice između isturenih bojni skraćuju se kraće od IBP. Pogledajte da koordinacijska točka IBP nije prikazana na granici bojne.

135. POSTUPAK PRIKAZIVANJA GRANICA TERITORIJALNE ODGOVORNOSTI ZA SATNIJE ISTI JE KAO POSTUPAK KORIŠTEN ZA BRIGADU ILI BOJNU.

136. U potpunosti grafike prikazane dolje prikazavši satniju A i C, 1. bojne, 66. pješačke pukovnije koja osigurava IBP (COP).



Odgovor na 136. pitanje

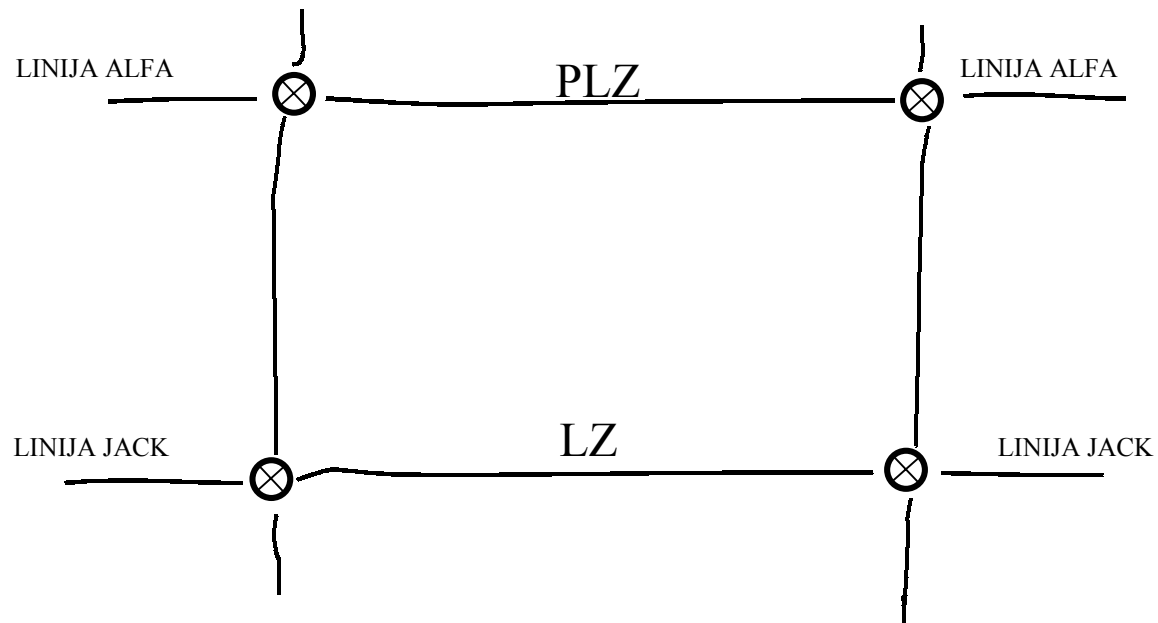


Da biste prikazali da isturene satnije 1. bojne, 66. pješačke pukovnije osiguravaju snage za IBP, tada biste trebali dodati IBP (COP) koordinacijsku točku i produžiti granice između satnija ispred PCB (FEBA) kroz IBP (COP).

137. Koordinacijske točke također se rabe kada se presijecaju početne linije zadržavanja i bočne granice.

Primjer:


Početna linija zadržavanja (PLZ)
(Initial Delay Position (IDP))





Linija zadržavanja (LZ)
(Delay Line (DL))


MINI KVIZ


Upotpunite sljedeće zahtjeve da biste provjerili koliko ste naučili.
PRVI ZAHITJEV: Opišite simbole dolje prikazane.

a.  = _____

b.  = _____

c.  = _____

d.  = _____



e. = _____

DRUGI ZAHTJEV: Prikažite sljedeće postrojbe i instalacije:

a. 3. desetina, 2. vod, A satnija, 2 bojna (mehanizirana), 76. pješačka pukovnija.

b. A satnija, 1. bojna, 66. pješačka pukovnija.

c. NOS-e ATLAS, 2. bojna (mehanizirana), 77. pješačka pukovnija.

d. 1. bojna, 66. pješačka pukovnija, 1. brigada, 21. pješačka divizija.

- e. NOS-e, 2. bojna (mehanizirana), 78. pješačka pukovnija.
- f. Zapovjedno mjesto, NOS-e, 2. bojna (mehanizirana), 79. pješačka pukovnija.
- g. TPLB, 1. bojna, 69. pješačka pukovnija.
- h. BPLB, 2. bojna (mehanizirana), 80. pješačka pukovnija.
- i. Postaja PP, 1. bojna, 70. pješačka pukovnija.
- j. Postaja PP, 2. bojna (mehanizirana), 81. pješačka pukovnija.
- k. Motrionica, 1. bojna, 71. pješačka pukovnija.
- l. Motrionica, 2. bojna (mehanizirana), 82. pješačka pukovnija.

TREĆI ZAHTJEV: Upotpunite rečenice.

- a. Da biste predstavili trenutnu lokaciju postrojbi ili instalacija, koristimo se simbolom prikazanim _____ linijom.
- b. Središte snaga postrojbe prikazano je simbolom _____ postrojbe.
- c. Središte postaje prve pomoći i pozicija gdje se nalazi štap simbola zapovjednog mjesta predstavlja njenu _____ lokaciju.
- d. Da bismo se koristili tehnikom vanjskog prikazivanja sa simbolima drugačijim od simbola zapovjednih mjesta, štap simbola se produžuje _____ donje linije simbola.
- e. Raznovrsna područja zatvorena su _____ i predstavljena svojom namjenom.
- f. Buduća ili planirana lokacija prikazana je _____ linijom.
- g. Kada granica razdvaja postrojbe, _____ ešalon susjednih postrojbi je prikazan na granici.
- i. Kada granica razdvaja postrojbe nejednake veličine, simbol _____ veće postrojbe prikazan je na granici.
- j. Smjer napada prikazan je _____ linijom sa strelicom i nije _____.
- k. Postrojbe kojima je dodijeljena zadaća osiguranja prikazane su simbolom _____ sa strelicama _____.

- l. Ograničenje postrojbi vezano za teritorijalnu odgovornost prikazano je _____ granica naprijed i u _____ PCB (FEBA).
- m. Koordinacijske točke su prikazane na obrambenim granicama i označene sa skraćenicama _____ i _____, zavisno od toga koja je više prikladnija.

Namjena ovog teksta je da razvije vašu stručnost u prepoznavanju i uporabi ovih vojnih simbola i mjera taktičkog nadzora najčešće korištenih u prikazivanju terenskih i taktičkih operacija na razini brigade.

Opsežnije zahvaćanje svih simbola i posebnih tehnika nije moguće u tekstu ovakvog formata, uključujući vremenska ograničenja polaznikova učenja. Mnogo važniji simboli-čak cijele kategorije simbola- kao što su individualna oružja i simboli fortifikacija, logističke postrojbe/instalacije/simboli aktivnosti te mjere nadzora i tehnika vezanih sa specifičnim područjima kao što su: (zračno-desantne, padobranske, amfibijske, paljbene potpore) su prema potrebi izostavljena.

Promjene u opremi, taktici i organizaciji rezultiraju odgovarajućim promjenama u grafičkom prikazivanju. UPAMTITE – GRAFIČKO PRIKAZIVANJE JE VJEŠTINA KOJA OMOGUĆAVA USAVRŠAVANJE S INDIVIDUALNIM ZAPAŽANJIMA I SAMOSTALNOM UČENJU ZA ODRŽAVANJE TRENUTNE STRUČNOSTI I STANDARDIZACIJE.


MINI KVIZ ODGOVORI

ODGOVOR NA PRVI ZAHTJEV

a. = Motrionica ili prislušna postaja




b. = Zapovjedno mjesto



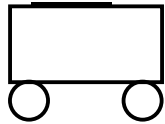
c. = Postrojba



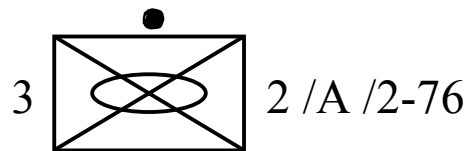
d. = Instalacija ili djelovanje borbeno servisne potpore



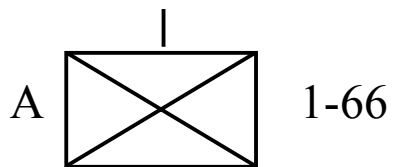
e. = Element borbenoservisne potpore borbene postrojbe (brigadne PLB i niže



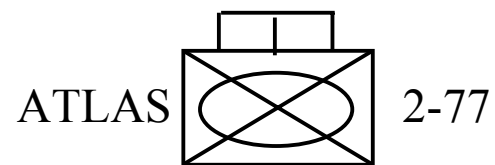
ODGOVOR NA DRUGI ZAHTJEV



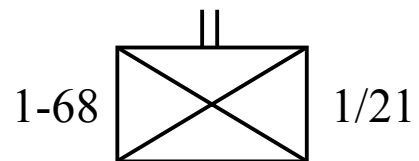
a. 3. desetina, 2. vod, A satnija, 2. bojna (mehanizirana), 76. pješačka pukovnija.



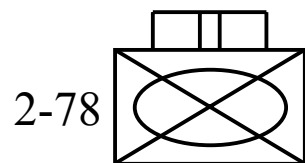
b. A satnija, 1. bojna, 66. pješačka pukovnija.



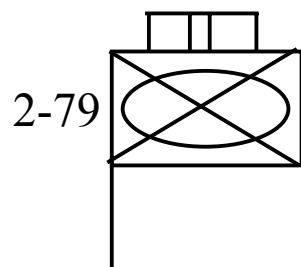
c. NOS-e, 2. bojna (mehanizirana), 77. pješačka pukovnija.




d. 1.bojna, 68. pješačka pukovnija, 1. brigada, 21. pješačka divizija.




e. NOS-e, 2. bojna (mehanizirana), 78. pješачka pukovnija.



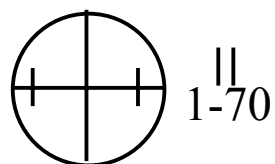
f. Zapovjedno mjesto, NOS-e, 2. bojna (mehanizirana), 79. pješачka pukovnija.



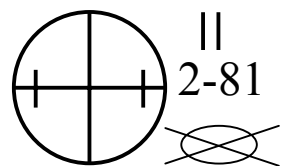
g. Terenska pokretna logistička baza, 1. bojna, 69. pješačka pukovnija.



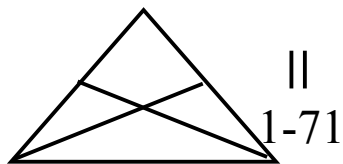
h. Borbena pokretna logistička baza, 2. bojna (mehanizirana), 80. pješačka pukovnija.



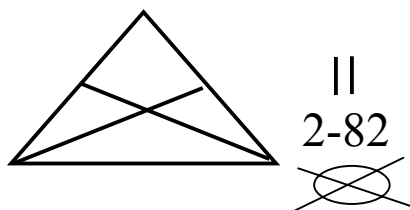
i. Postaja prve pomoći, 1. bojna, 70. pješačka pukovnija.



j. Postaja prve pomoći, 2. bojna (mehanizirana), 70. pješačka pukovnija.



k. Motrionica, 1. bojna, 71. pješačka pukovnija.



m. Motrionica, 2. bojna (mehanizirana), 82. pješačka pukovnija.

ODGOVORI ZA TREĆI ZAHTJEV

- a. Da bismo predstavili trenutnu lokaciju postrojbi ili instalacija, koristimo se simbolom prikazanim punom linijom.
- b. Središte snaga postrojbe prikazano je simbolom središtem snaga postrojbe.
- c. Središte postaje prve pomoći i pozicija gdje se nalazi štap simbola zapovjednog mjesta predstavlja njenu točnu lokaciju.
- d. Da bismo se koristili tehnikom vanjskog prikazivanja sa simbolima drugačijim od simbola zapovjednih mjesta, štap simbola se produžuje okomito iz središta donje linije simbola.
- e. Raznovrsna područja zatvorena su punom linijom i predstavljena svojom namjenom.
- f. Buduća ili planirana lokacija prikazana je isprekidanom linijom.
- g. Kada granica razdvaja postrojbe, najviši ešalon susjednih postrojbi je prikazan na granici.
- h. Kada granica razdvaja postrojbe nejednake veličine, simbol veličine veće postrojbe prikazuje se na granici.
- i. Smjer napada prikazan je punom linijom sa strelicom i nije označen.

- j. Postrojba kojoj je dodijeljena zadaća osiguranja prikazana je simbolom postrojbe sa strelicama groma.
- k. Ograničenje postrojbi vezano za teritorijalnu odgovornost prikazano je produženjem granica naprijed i u pozadinu PCB (FEBA).
- m. Koordinacijske točke su prikazane na obrambenim granicama i označene sa skraćenicama PCB i IBP, zavisno koja je više primjenjivija.

INDEKS POJMOVA

BPLD	borbena pokretna logistička baza	/	combat trains	(88,89,102,111,115-118,122)
BPP	baza paljbene potpore	FSB	fire support base	(138)
BSP	borbenoservisna potpora	CSS	combat service support	(6-14,83,84)
CILJ	cilj	OBJ	objective	(131-134,166,171)
FC	fazna crta	PL	phase line	(190,193)
GSO	glavni smjer opskrbe	MSR	main supply route	(172-175)
IBP	istureni borbeni položaj	COP	combat outpost	(213-230)
KT	kontaktna točka	CP	contact point	(194)
LZ	linija zadržavanja	DL	delay line	(231)
NAP	napad	ATC	attack	(127-130)
NT	nadzorna točka	CP	check point	(182,186)
NOS	namjenske oružane snage	TASK FORCE		(33,35,99,102,107,163)
PC	polazna crta	LD	line of departure	(182)
PC/LD	polazna crta/linija dodira	LD/LC	line of departure/line of contact	(183-185,203,208)

DOČASNIČKI TIM -CARTS

PCB	prednja crta bojišnice	FEBA	forward edge of the battle field	(213-230)
PLZ	početna linija zadržavanja	IDP	initial delay position	(231)
POP	područje operacija	AP	area of operation	(138)
pPP	postaja prve pomoći	/	aid station	(83,99,108-110,115-118,122)
PP	područje prikupljanja	AA	assembly area	(123-126)
SBSB	sustav borbenih snaga pukovnije	CARS	Combat Arms Regimental System	(73-76)
ST	startna točka	SP	start point	(176,179)
TO	točka odvajanja	RP	release point	(176,179)
TP	točka prolaza	PP	passage point	(195)
TPLB	terenska pokretna logistička baza			(89)
TPO	taktičko područje odgovornosti	TAOR	tactical area	(197,198)
TPPC	točka prolaza na polaznoj crti			(138)
ZI	zona iskakanja	DZ	drop zone	(16-31)
ZM	zapovjedno mjesto	CP	command post	(135)
ZS	zona slijetanja	LZ	landing zone	(135)

DOČASNIČKI TIM -CARTS

ZP

zona prihvata

PZ

pickup zone

(135)

Naslov izvornika: **AC 11/36 “MILITARY SIMBOLS AND OVERLAY TECHIQUES”** US Army Sergeants Major Academy Fort Bliss, Texas, June 1977

Za nakladnika: Sektor za obuku i školstvo GSHV
Odjel za provedbu programa MPRI-CARTS
Zagreb, Ilica 256 b
brigadir Vlado Čondić

Prijevod: narednik Damir Trupković

Suradnik: NCO team: CSM(R) Joe T. Hill

Lektura: Danica Pajić, prof.

Urednik: narednik Damir Trupković

Tisak: Tiskara HVU “Petar Zrinski”
za tisak: Mario Duk, inž.

Naklada: 100 primjeraka